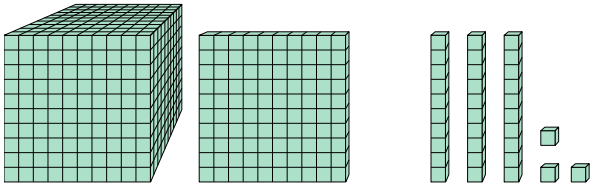




Решите каждую задачу.

**ОТВЕТЫ**

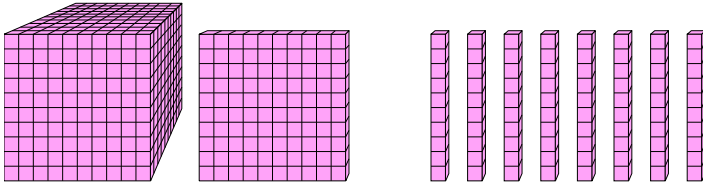
1)



Какая цифра на месте сотнями в данном числе?

1. \_\_\_\_\_

2)



Какая цифра на месте единицами в данном числе?

2. \_\_\_\_\_

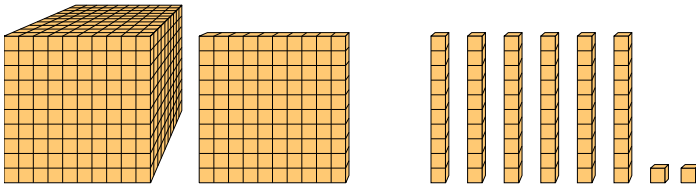
3. \_\_\_\_\_

4. \_\_\_\_\_

5. \_\_\_\_\_

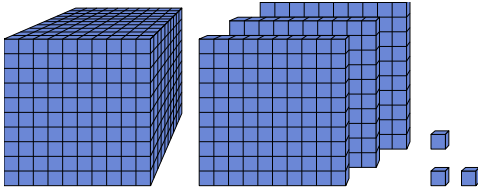
6. \_\_\_\_\_

3)



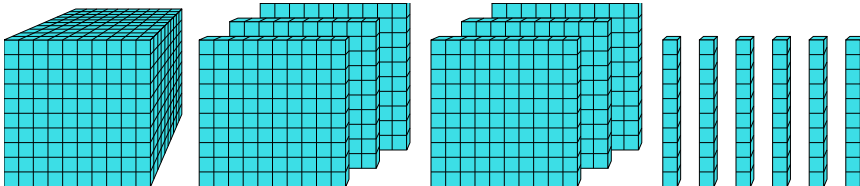
Какая цифра на месте миллиарды в данном числе?

4)



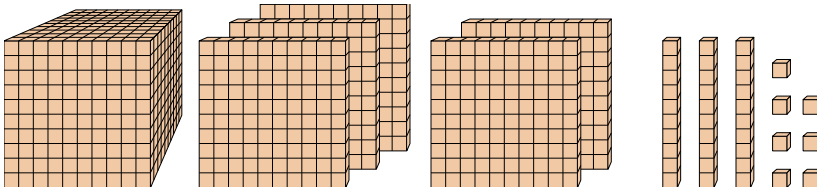
Какая цифра на месте десятками в данном числе?

5)



Какая цифра на месте миллиарды в данном числе?

6)

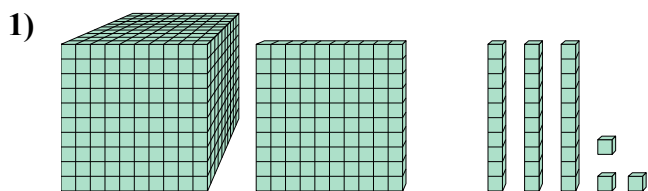


Какая цифра на месте десятками в данном числе?



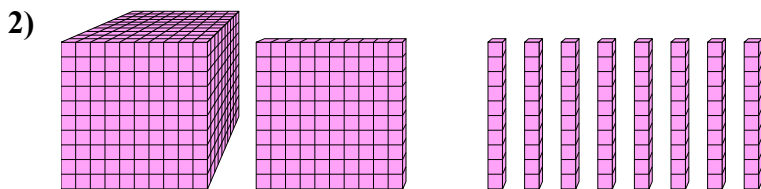
Решите каждую задачу.

**ОТВЕТЫ**



Какая цифра на месте сотнями в данном числе?

1. 1



Какая цифра на месте единицами в данном числе?

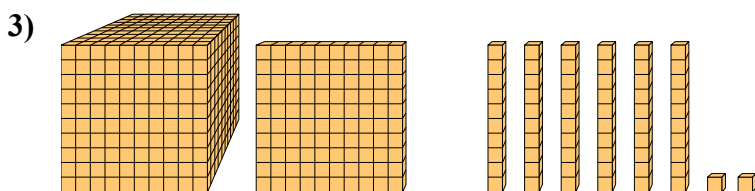
2. 0

3. 1

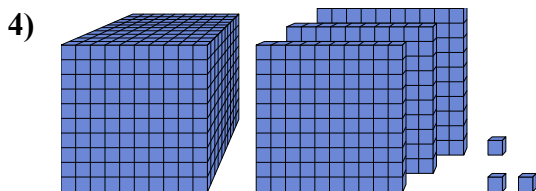
4. 0

5. 6

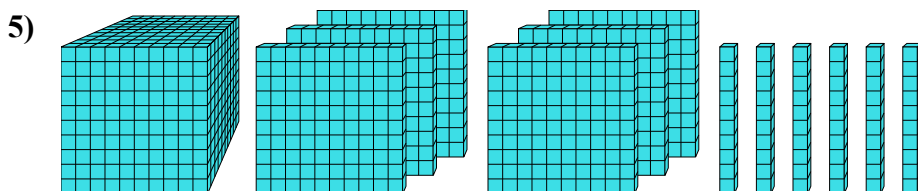
6. 3



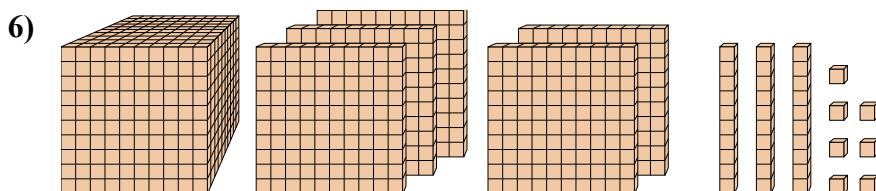
Какая цифра на месте миллиарды в данном числе?



Какая цифра на месте десятками в данном числе?



Какая цифра на месте миллиарды в данном числе?



Какая цифра на месте десятками в данном числе?