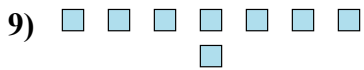
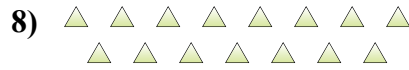
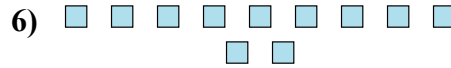
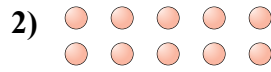





Определите, является ли число фигур четным или нечетным.




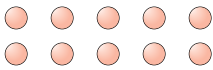
Ответы


1. _____
2. _____
3. _____
4. _____
5. _____
6. _____
7. _____
8. _____
9. _____
10. _____



Определите, является ли число фигур четным или нечетным.

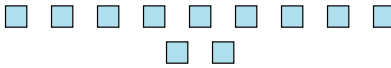
1) 
18

2) 
10

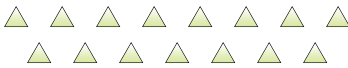
3) 
6

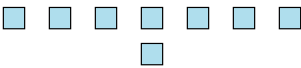
4) 
13


5) 
6

6) 
11

7) 
12

8) 
15

9) 
8

10) 
16

ОТВЕТЫ

1. Четное

2. Четное

3. Четное

4. Нечетное

5. Четное

6. Нечетное

7. Четное

8. Нечетное

9. Четное

10. Четное