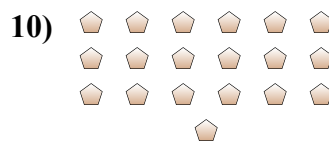
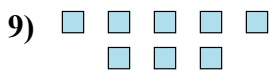
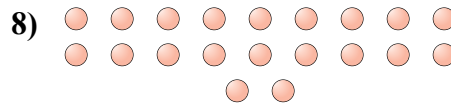
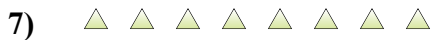
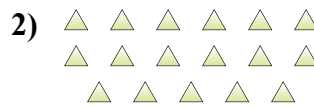
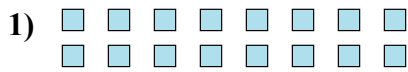




Определите, является ли число фигур четным или нечетным.

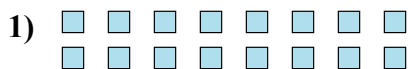


Ответы

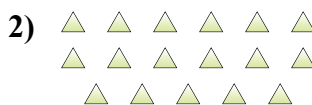
- 1. \_\_\_\_\_
- 2. \_\_\_\_\_
- 3. \_\_\_\_\_
- 4. \_\_\_\_\_
- 5. \_\_\_\_\_
- 6. \_\_\_\_\_
- 7. \_\_\_\_\_
- 8. \_\_\_\_\_
- 9. \_\_\_\_\_
- 10. \_\_\_\_\_



Определите, является ли число фигур четным или нечетным.



16



17



5



6



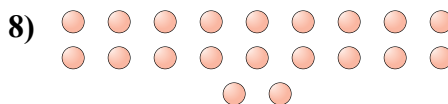
13



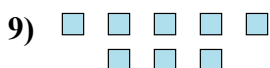
15



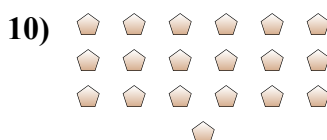
8



20



8



19

ОТВЕТЫ

1. Четное

2. Нечетное

3. Нечетное

4. Четное

5. Нечетное

6. Нечетное

7. Четное

8. Четное

9. Четное

10. Нечетное