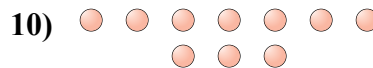
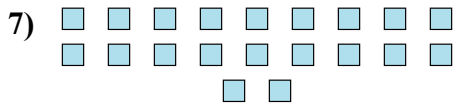
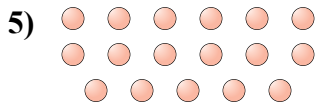
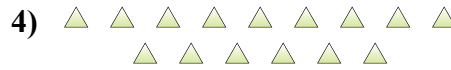
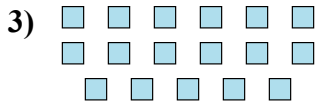
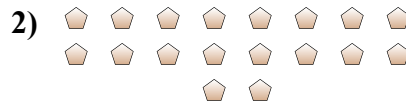




Определите, является ли число фигур четным или нечетным.



Ответы

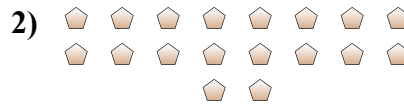
1. \_\_\_\_\_
2. \_\_\_\_\_
3. \_\_\_\_\_
4. \_\_\_\_\_
5. \_\_\_\_\_
6. \_\_\_\_\_
7. \_\_\_\_\_
8. \_\_\_\_\_
9. \_\_\_\_\_
10. \_\_\_\_\_



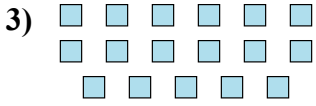
Определите, является ли число фигур четным или нечетным.



19



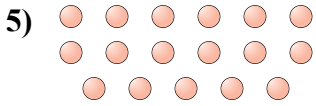
18



17



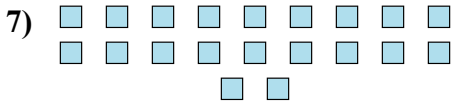
15



17



13



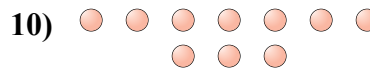
20



7



6



10

ОТВЕТЫ

1. Нечетное

2. Четное

3. Нечетное

4. Нечетное

5. Нечетное

6. Нечетное

7. Четное

8. Нечетное

9. Четное

10. Четное