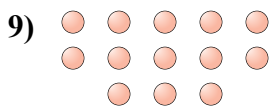

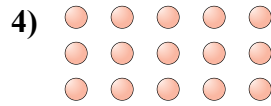




Определите, является ли число фигур четным или нечетным.



Ответы

- 1. _____
- 2. _____
- 3. _____
- 4. _____
- 5. _____
- 6. _____
- 7. _____
- 8. _____
- 9. _____
- 10. _____



Определите, является ли число фигур четным или нечетным.



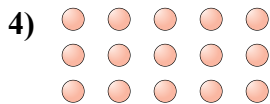
6




14



10



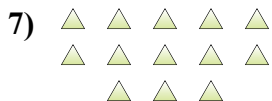
15



17



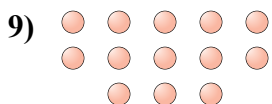
7



13



10



13



8

ОТВЕТЫ

1. Четное

2. Четное

3. Четное

4. Нечетное

5. Нечетное

6. Нечетное

7. Нечетное

8. Четное

9. Нечетное

10. Четное