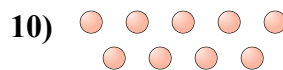
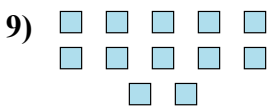

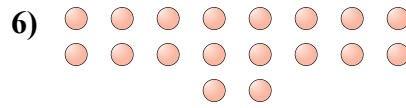

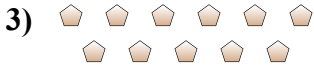
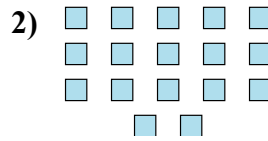




Определите, является ли число фигур четным или нечетным.

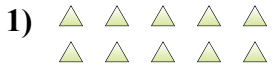


Ответы

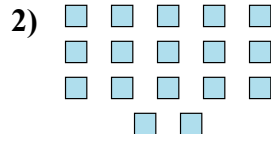
1. _____
2. _____
3. _____
4. _____
5. _____
6. _____
7. _____
8. _____
9. _____
10. _____



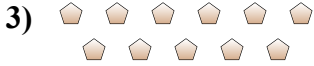
Определите, является ли число фигур четным или нечетным.




10



17



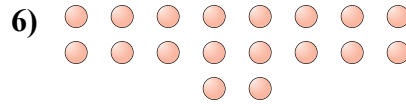
11




19



14



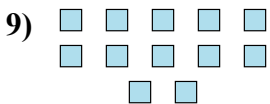
18



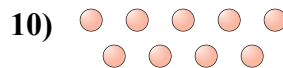
18



8



12



9

ОТВЕТЫ

1. Четное

2. Нечетное

3. Нечетное

4. Нечетное

5. Четное

6. Четное

7. Четное

8. Четное

9. Четное

10. Нечетное