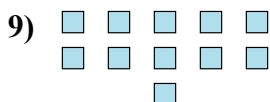
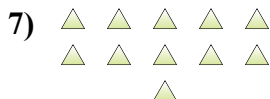
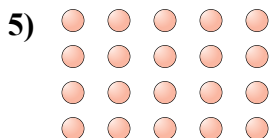




Определите, является ли число фигур четным или нечетным.



Ответы

1. _____

2. _____

3. _____

4. _____

5. _____

6. _____

7. _____

8. _____

9. _____

10. _____



Определите, является ли число фигур четным или нечетным.



7



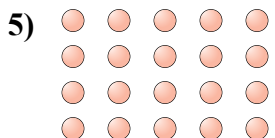
18



6



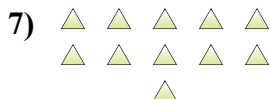
7



20



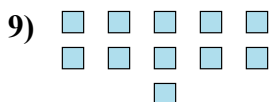
9



11



5



11



6

ОТВЕТЫ

1. Нечетное

2. Четное

3. Четное

4. Нечетное

5. Четное

6. Нечетное

7. Нечетное

8. Нечетное

9. Нечетное

10. Четное