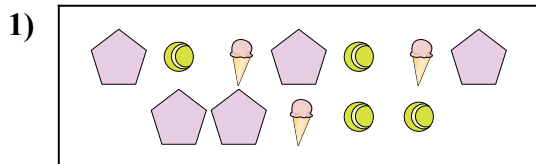





Сравните количество фигур.



Имеется меньше или ?

A.

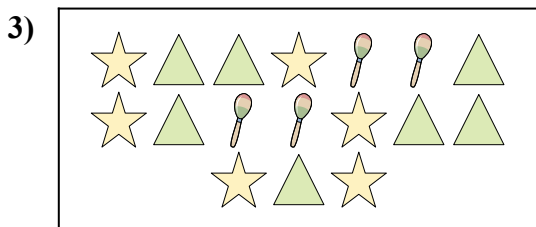
B.



Имеется больше или ?

A.


B.



Имеется меньше или ?

A.


B.



Имеется меньше или ?

A.

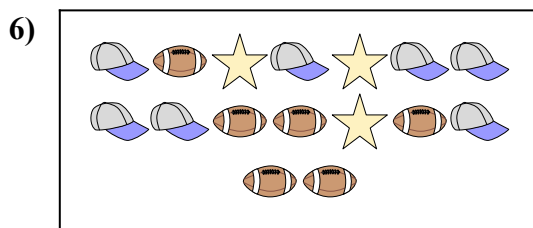
B.



Имеется меньше или ?

A.

B.



Имеется меньше или ?

A.

B.

**ОТВЕТЫ**

1. \_\_\_\_\_

2. \_\_\_\_\_

3. \_\_\_\_\_

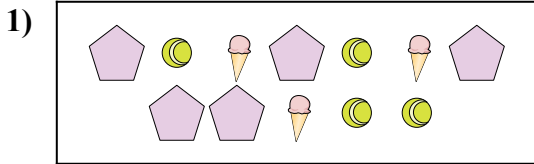
4. \_\_\_\_\_

5. \_\_\_\_\_

6. \_\_\_\_\_




Сравните количество фигур.



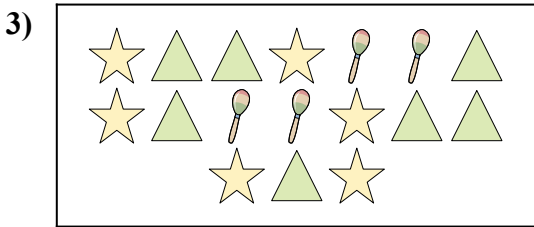
Имеется меньше или ?

- A.
- B.




Имеется больше или ?

- A.
- B.




Имеется меньше или ?

- A.
- B.



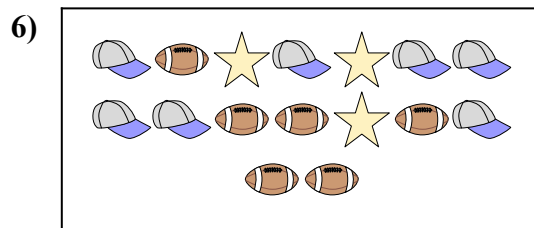
Имеется меньше или ?

- A.
- B.



Имеется меньше или ?

- A.
- B.



Имеется меньше или ?

- A.
- B.

**ОТВЕТЫ**

- 1.   **A**
- 2.   **A**
- 3.   **B**
- 4.   **B**
- 5.   **A**
- 6.   **B**