
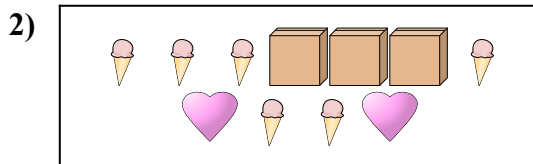





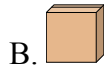
Сравните количество фигур.




Имеется больше или ?



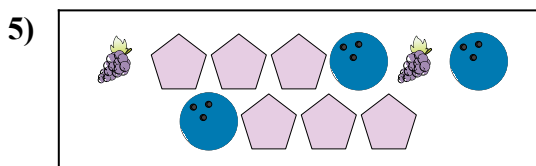
Имеется больше или ?




Имеется меньше или ?



Имеется меньше или ?



Имеется меньше или ?



Имеется меньше или ?



ОТВЕТЫ

1. _____

2. _____

3. _____


4. _____

5. _____

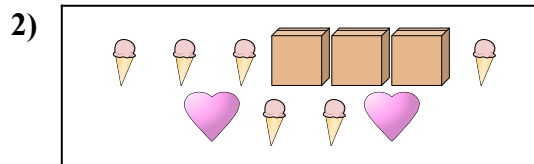
6. _____




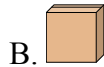
Сравните количество фигур.




Имеется больше или ?



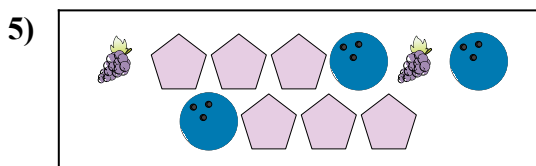
Имеется больше или ?




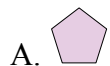
Имеется меньше или ?



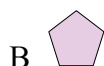
Имеется меньше или ?



Имеется меньше или ?



Имеется меньше или ?



ОТВЕТЫ

1. **В**

2. **В**

3. **А**

4. **А**

5. **В**

6. **В**