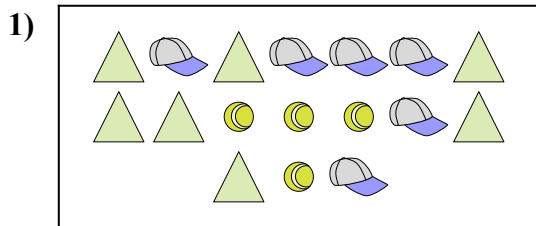




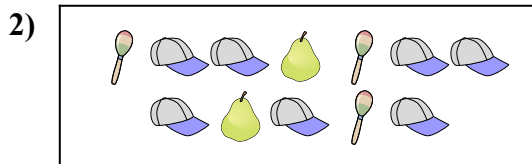
Сравните количество фигур.



Имеется больше или ?

A.


B.



Имеется меньше или ?

A.

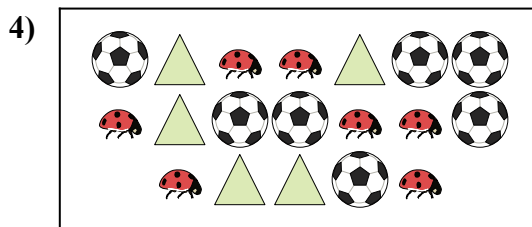
B.



Имеется меньше или ?

A.


B.



Имеется меньше или ?

A.


B.



Имеется меньше или ?

A.

B.



Имеется меньше или ?

A.

B.

ОТВЕТЫ

1. _____

2. _____

3. _____

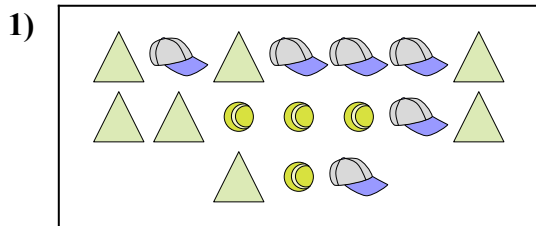
4. _____

5. _____

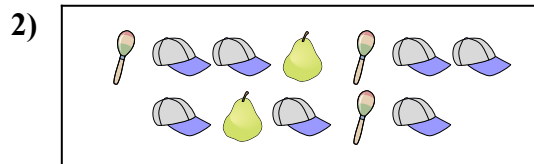
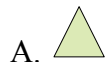
6. _____




Сравните количество фигур.



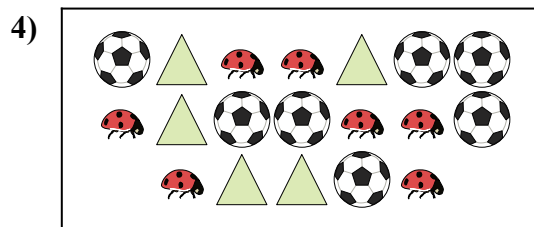
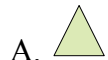
Имеется больше или ?




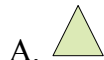
Имеется меньше или ?




Имеется меньше или ?



Имеется меньше или ?



Имеется меньше или ?



Имеется меньше или ?



ОТВЕТЫ

1. **A**

2. **A**

3. **A**

4. **A**

5. **A**

6. **A**