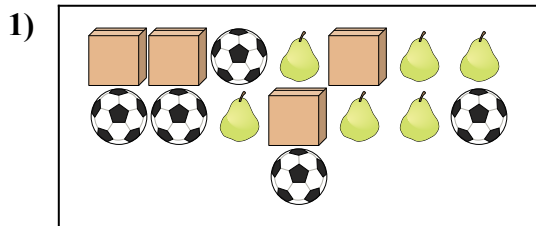
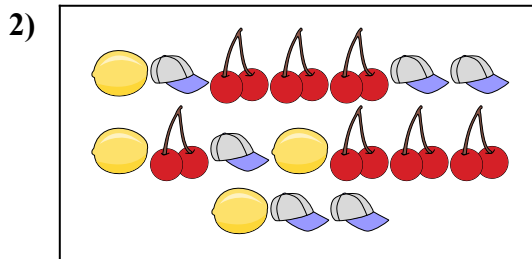




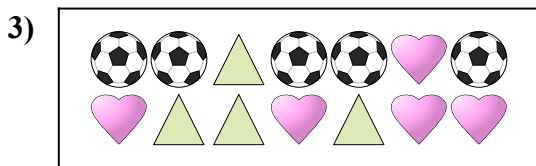
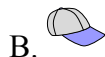
Сравните количество фигур.




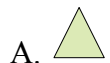
Имеется больше или ?




Имеется меньше или ?



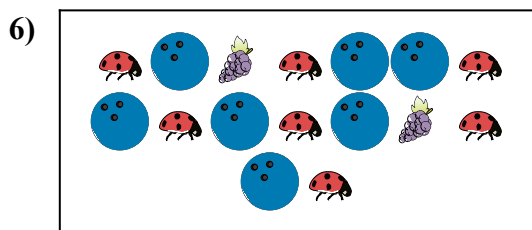
Имеется меньше или ?



Имеется меньше или ?



Имеется больше или ?



Имеется больше или ?



ОТВЕТЫ

1. _____

2. _____

3. _____

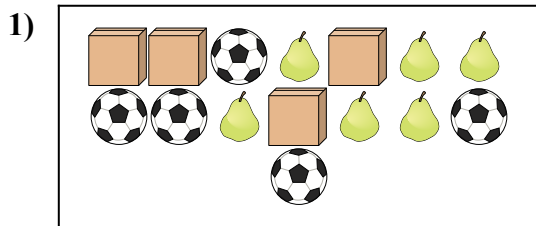
4. _____

5. _____

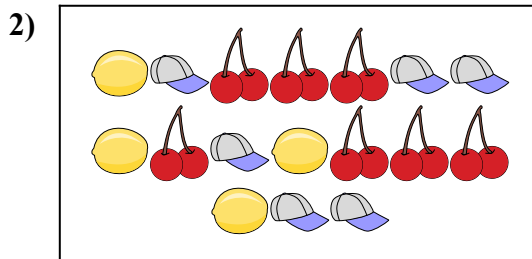
6. _____



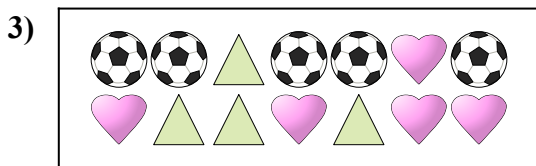
Сравните количество фигур.




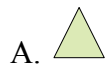
Имеется больше или ?




Имеется меньше или ?



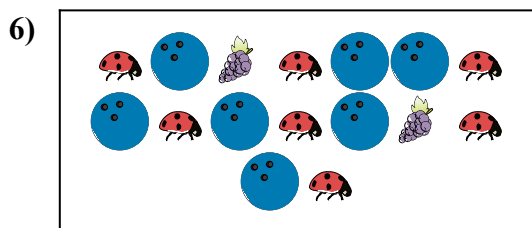
Имеется меньше или ?



Имеется меньше или ?



Имеется больше или ?



Имеется больше или ?



ОТВЕТЫ

1. В

2. А

3. А

4. А

5. В

6. В