





Сравните количество фигур.



Имеется больше или ?

A.

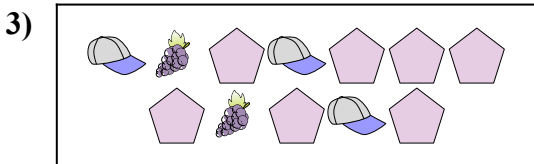
B.



Имеется меньше или ?

A.

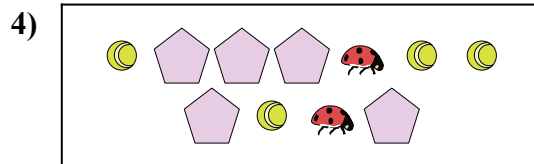
B.



Имеется меньше или ?

A.

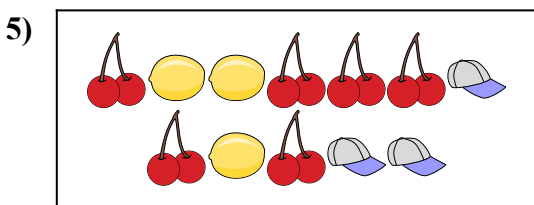
B.



Имеется больше или ?

A.


B.



Имеется меньше или ?

A.

B.



Имеется больше или ?

A.

B.

ОТВЕТЫ

1. _____

2. _____

3. _____


4. _____

5. _____

6. _____




Сравните количество фигур.



Имеется больше или ?

A.

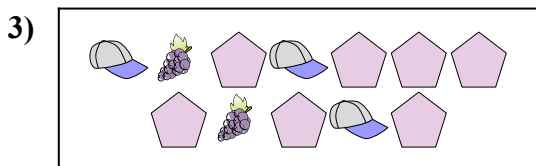
B.



Имеется меньше или ?

A.

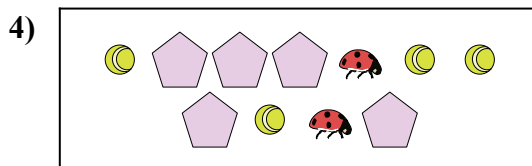
B.



Имеется меньше или ?

A.

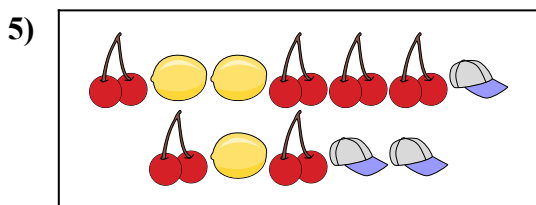
B.



Имеется больше или ?

A.


B.



Имеется меньше или ?

A.

B.



Имеется больше или ?

A.

B.

ОТВЕТЫ

1. **A**

2. **A**

3. **B**

4. **B**

5. **B**

6. **B**