

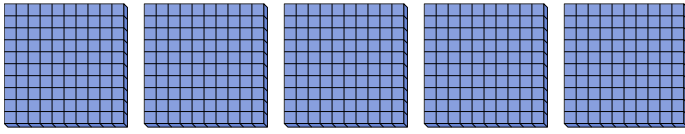


Используйте группы при ответе на вопрос.

ОТВЕТЫ

1) а. Сколько здесь групп 100?

б. Сколько всего малых блоков?



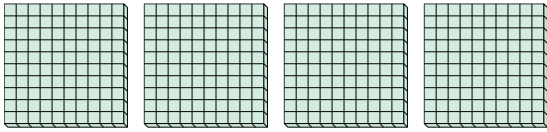
1. ____

2. ____

3. ____

2) а. Сколько здесь групп 100?

б. Сколько всего малых блоков?




4. ____

5. ____

6. ____

3) а. Сколько здесь групп 100?

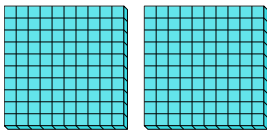
б. Сколько всего малых блоков?



7. ____

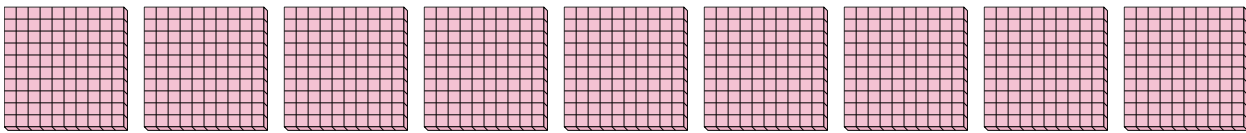
4) а. Сколько здесь групп 100?

б. Сколько всего малых блоков?



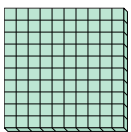
5) а. Сколько здесь групп 100?

б. Сколько всего малых блоков?



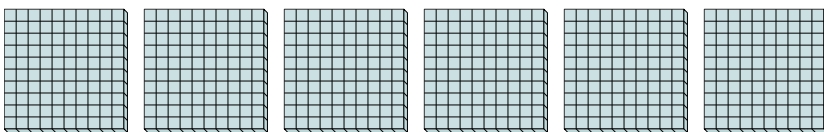
6) а. Сколько здесь групп 100?

б. Сколько всего малых блоков?



7) а. Сколько здесь групп 100?

б. Сколько всего малых блоков?



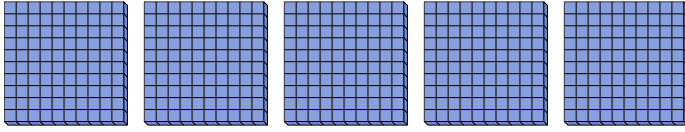


Используйте группы при ответе на вопрос.

ОТВЕТЫ

1) а. Сколько здесь групп 100?

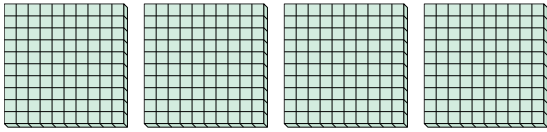
б. Сколько всего малых блоков?



1. 5 500

2) а. Сколько здесь групп 100?


б. Сколько всего малых блоков?



2. 4 400

3) а. Сколько здесь групп 100?

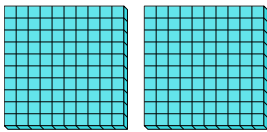
б. Сколько всего малых блоков?



3. 3 300

4) а. Сколько здесь групп 100?

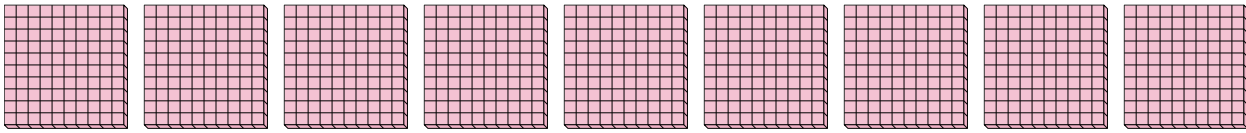
б. Сколько всего малых блоков?



4. 2 200

5) а. Сколько здесь групп 100?

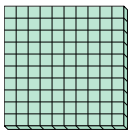
б. Сколько всего малых блоков?



5. 9 900

6) а. Сколько здесь групп 100?

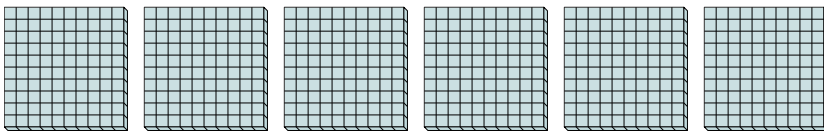
б. Сколько всего малых блоков?



6. 1 100

7) а. Сколько здесь групп 100?

б. Сколько всего малых блоков?



7. 6 600