

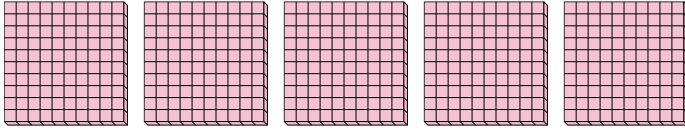


Используйте группы при ответе на вопрос.

**ОТВЕТЫ**

1) а. Сколько здесь групп 100?

б. Сколько всего малых блоков?




1. \_\_\_\_\_

2. \_\_\_\_\_

3. \_\_\_\_\_

2) а. Сколько здесь групп 100?

б. Сколько всего малых блоков?



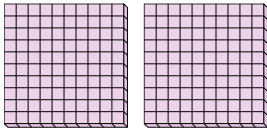
4. \_\_\_\_\_

5. \_\_\_\_\_

6. \_\_\_\_\_

3) а. Сколько здесь групп 100?

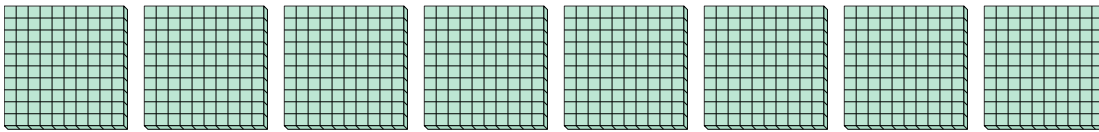
б. Сколько всего малых блоков?



7. \_\_\_\_\_

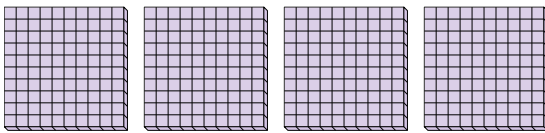
4) а. Сколько здесь групп 100?

б. Сколько всего малых блоков?




5) а. Сколько здесь групп 100?

б. Сколько всего малых блоков?




6) а. Сколько здесь групп 100?

б. Сколько всего малых блоков?



7) а. Сколько здесь групп 100?

б. Сколько всего малых блоков?



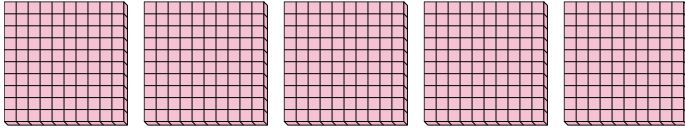


Используйте группы при ответе на вопрос.

**ОТВЕТЫ**

1) а. Сколько здесь групп 100?


б. Сколько всего малых блоков?



1. 5 500

2) а. Сколько здесь групп 100?

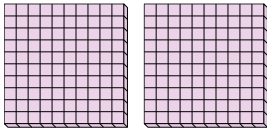
б. Сколько всего малых блоков?



2. 1 100

3) а. Сколько здесь групп 100?

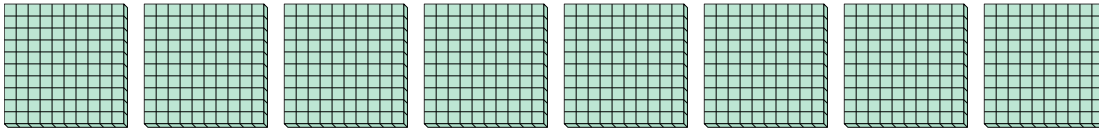
б. Сколько всего малых блоков?



3. 2 200

4) а. Сколько здесь групп 100?

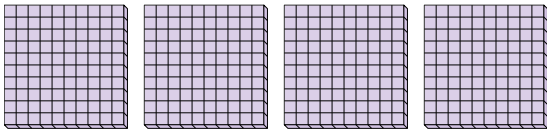
б. Сколько всего малых блоков?



4. 8 800

5) а. Сколько здесь групп 100?


б. Сколько всего малых блоков?



5. 4 400

6) а. Сколько здесь групп 100?

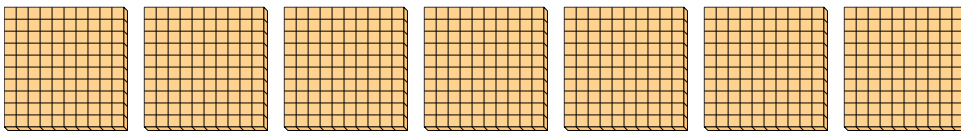
б. Сколько всего малых блоков?



6. 3 300

7) а. Сколько здесь групп 100?

б. Сколько всего малых блоков?



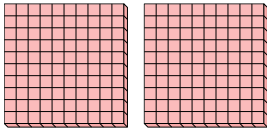
7. 7 700



Используйте группы при ответе на вопрос.

**ОТВЕТЫ**

- 1) а. Сколько здесь групп 100?  
 б. Сколько всего малых блоков?

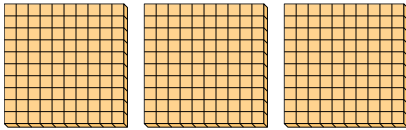


1. \_\_\_\_ \_\_\_\_

2. \_\_\_\_ \_\_\_\_

3. \_\_\_\_ \_\_\_\_

- 2) а. Сколько здесь групп 100?  
 б. Сколько всего малых блоков?




4. \_\_\_\_ \_\_\_\_

5. \_\_\_\_ \_\_\_\_

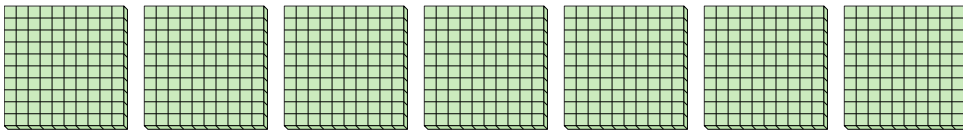
6. \_\_\_\_ \_\_\_\_

- 3) а. Сколько здесь групп 100?  
 б. Сколько всего малых блоков?




7. \_\_\_\_ \_\_\_\_

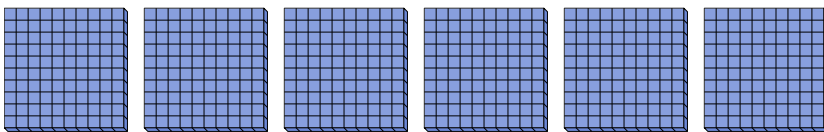
- 4) а. Сколько здесь групп 100?  
 б. Сколько всего малых блоков?



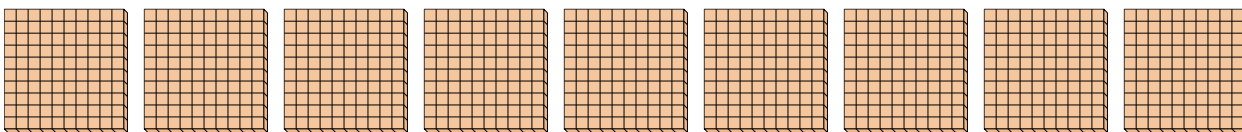
- 5) а. Сколько здесь групп 100?  
 б. Сколько всего малых блоков?



- 6) а. Сколько здесь групп 100?  
 б. Сколько всего малых блоков?



- 7) а. Сколько здесь групп 100?  
 б. Сколько всего малых блоков?



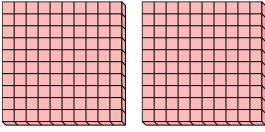


Используйте группы при ответе на вопрос.

**ОТВЕТЫ**

1) а. Сколько здесь групп 100?


б. Сколько всего малых блоков?



1. 2 200

2) а. Сколько здесь групп 100?


б. Сколько всего малых блоков?



2. 3 300

3) а. Сколько здесь групп 100?

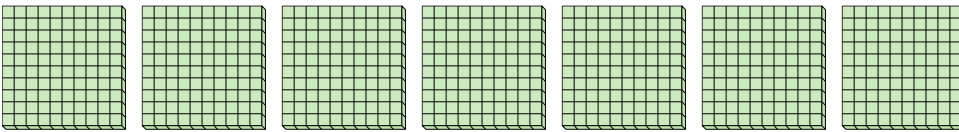
б. Сколько всего малых блоков?



3. 5 500

4) а. Сколько здесь групп 100?


б. Сколько всего малых блоков?



4. 7 700

5) а. Сколько здесь групп 100?

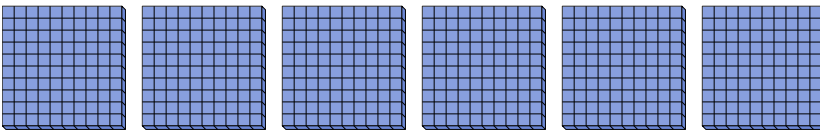
б. Сколько всего малых блоков?



5. 8 800

6) а. Сколько здесь групп 100?

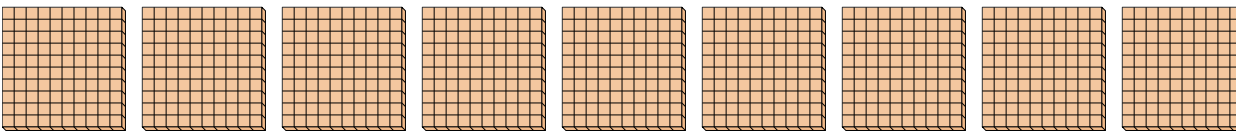
б. Сколько всего малых блоков?



6. 6 600

7) а. Сколько здесь групп 100?

б. Сколько всего малых блоков?



7. 9 900

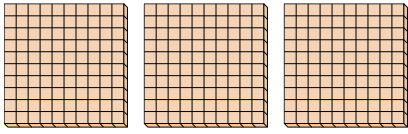


Используйте группы при ответе на вопрос.

**ОТВЕТЫ**

1) а. Сколько здесь групп 100?

б. Сколько всего малых блоков?

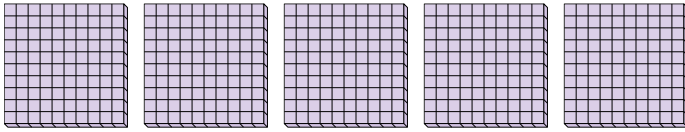


1. \_\_\_\_\_

2. \_\_\_\_\_

2) а. Сколько здесь групп 100?

б. Сколько всего малых блоков?

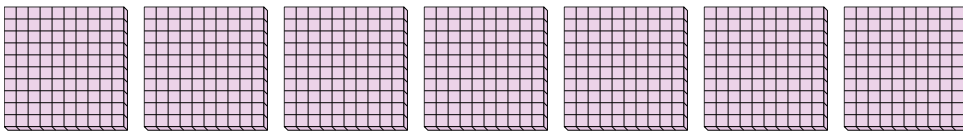


3. \_\_\_\_\_

4. \_\_\_\_\_

3) а. Сколько здесь групп 100?

б. Сколько всего малых блоков?



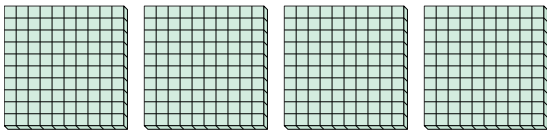
5. \_\_\_\_\_

6. \_\_\_\_\_

7. \_\_\_\_\_


4) а. Сколько здесь групп 100?

б. Сколько всего малых блоков?




5) а. Сколько здесь групп 100?

б. Сколько всего малых блоков?



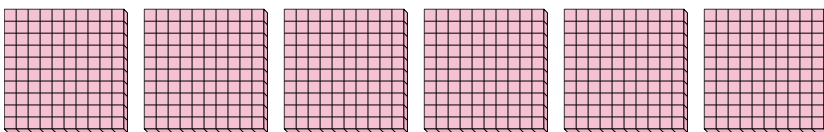
6) а. Сколько здесь групп 100?

б. Сколько всего малых блоков?



7) а. Сколько здесь групп 100?

б. Сколько всего малых блоков?



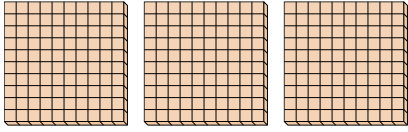


Используйте группы при ответе на вопрос.

**ОТВЕТЫ**

1) а. Сколько здесь групп 100?

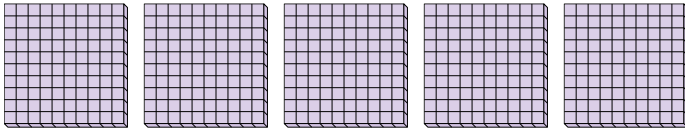
б. Сколько всего малых блоков?



1. 3 300

2) а. Сколько здесь групп 100?

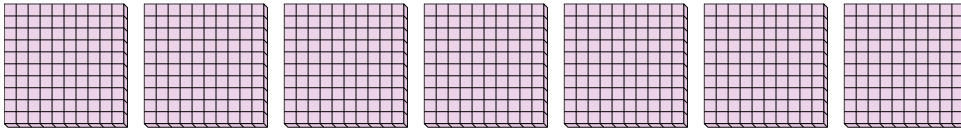
б. Сколько всего малых блоков?



2. 5 500

3) а. Сколько здесь групп 100?

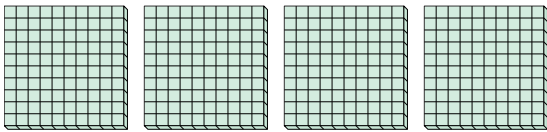
б. Сколько всего малых блоков?



3. 7 700

4) а. Сколько здесь групп 100?


б. Сколько всего малых блоков?



4. 4 400

5) а. Сколько здесь групп 100?


б. Сколько всего малых блоков?



5. 9 900

6) а. Сколько здесь групп 100?

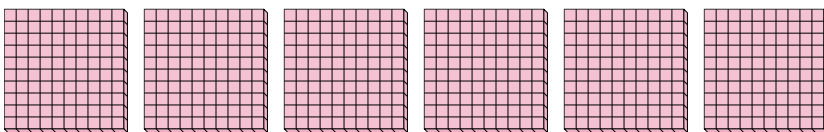
б. Сколько всего малых блоков?



6. 2 200

7) а. Сколько здесь групп 100?

б. Сколько всего малых блоков?



7. 6 600

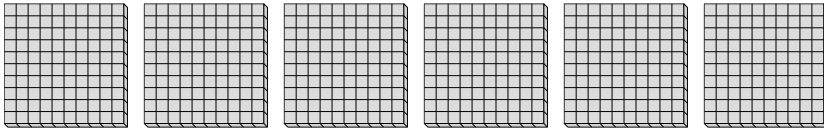


Используйте группы при ответе на вопрос.

**ОТВЕТЫ**

1) а. Сколько здесь групп 100?

б. Сколько всего малых блоков?



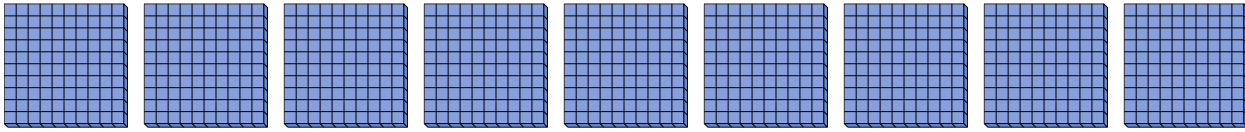
1. \_\_\_\_

2. \_\_\_\_

3. \_\_\_\_

2) а. Сколько здесь групп 100?

б. Сколько всего малых блоков?




4. \_\_\_\_

5. \_\_\_\_

6. \_\_\_\_

3) а. Сколько здесь групп 100?

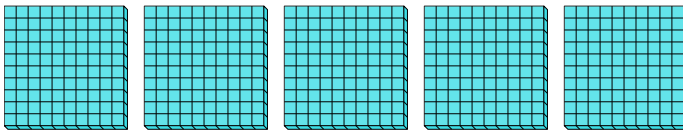
б. Сколько всего малых блоков?



7. \_\_\_\_

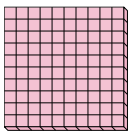
4) а. Сколько здесь групп 100?

б. Сколько всего малых блоков?



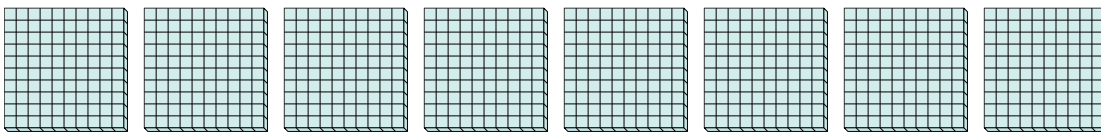
5) а. Сколько здесь групп 100?

б. Сколько всего малых блоков?




6) а. Сколько здесь групп 100?

б. Сколько всего малых блоков?



7) а. Сколько здесь групп 100?

б. Сколько всего малых блоков?



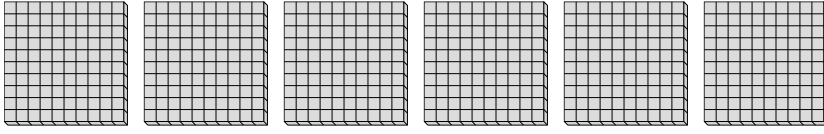


Используйте группы при ответе на вопрос.

**ОТВЕТЫ**

1) а. Сколько здесь групп 100?

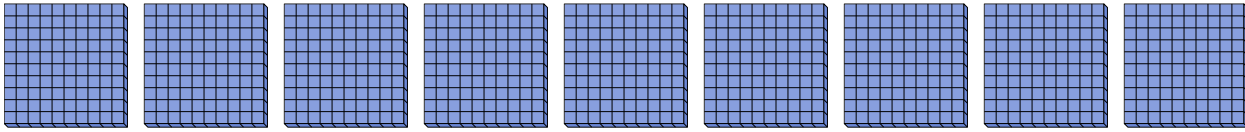
б. Сколько всего малых блоков?



1. 6 600

2) а. Сколько здесь групп 100?


б. Сколько всего малых блоков?



2. 9 900

3) а. Сколько здесь групп 100?

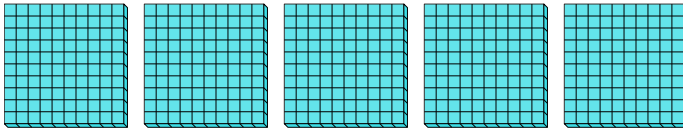
б. Сколько всего малых блоков?



3. 3 300

4) а. Сколько здесь групп 100?

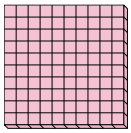
б. Сколько всего малых блоков?



4. 5 500

5) а. Сколько здесь групп 100?

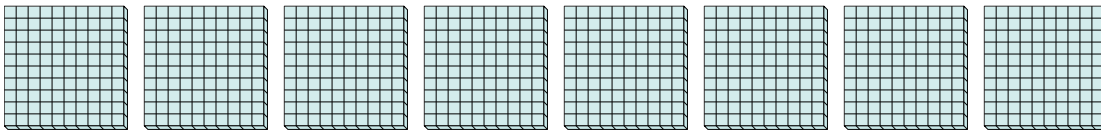
б. Сколько всего малых блоков?



5. 1 100

6) а. Сколько здесь групп 100?

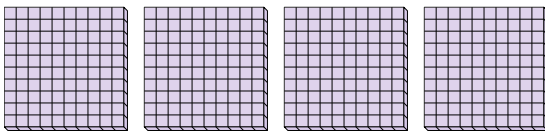
б. Сколько всего малых блоков?



6. 8 800

7) а. Сколько здесь групп 100?

б. Сколько всего малых блоков?



7. 4 400



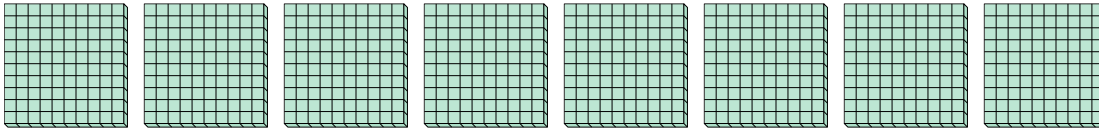


Используйте группы при ответе на вопрос.

**ОТВЕТЫ**

1) а. Сколько здесь групп 100?

б. Сколько всего малых блоков?



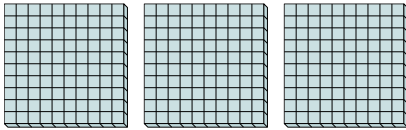
1. \_\_\_\_\_

2. \_\_\_\_\_

3. \_\_\_\_\_

2) а. Сколько здесь групп 100?

б. Сколько всего малых блоков?



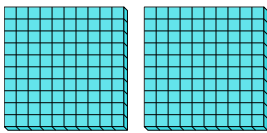
4. \_\_\_\_\_

5. \_\_\_\_\_

6. \_\_\_\_\_

3) а. Сколько здесь групп 100?

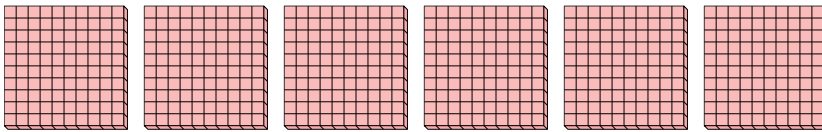
б. Сколько всего малых блоков?



7. \_\_\_\_\_

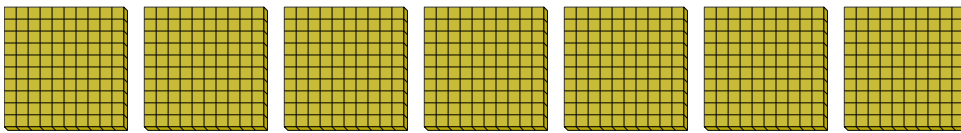
4) а. Сколько здесь групп 100?

б. Сколько всего малых блоков?



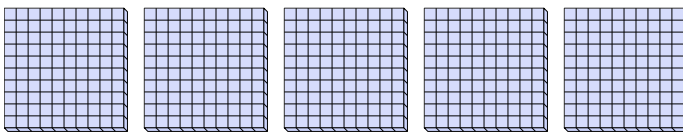
5) а. Сколько здесь групп 100?

б. Сколько всего малых блоков?



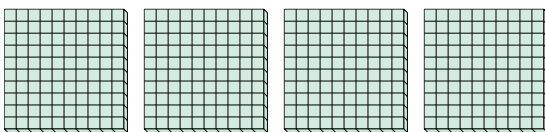
6) а. Сколько здесь групп 100?

б. Сколько всего малых блоков?



7) а. Сколько здесь групп 100?

б. Сколько всего малых блоков?



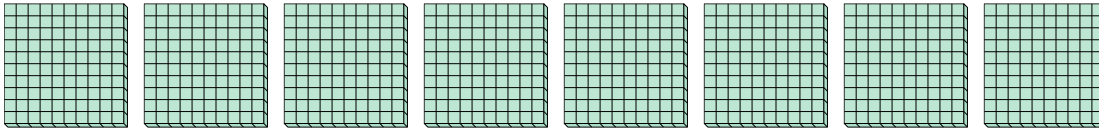


Используйте группы при ответе на вопрос.

**ОТВЕТЫ**

1) а. Сколько здесь групп 100?

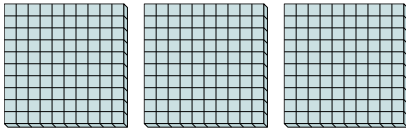
б. Сколько всего малых блоков?



1. 8 800

2) а. Сколько здесь групп 100?

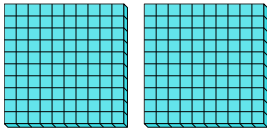
б. Сколько всего малых блоков?



2. 3 300

3) а. Сколько здесь групп 100?

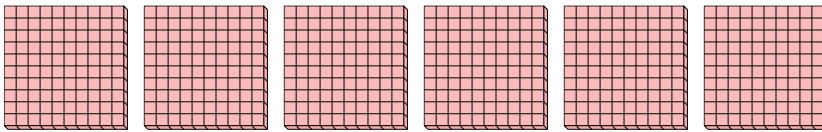
б. Сколько всего малых блоков?



3. 2 200

4) а. Сколько здесь групп 100?

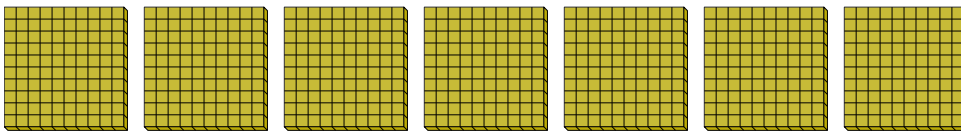
б. Сколько всего малых блоков?



4. 6 600

5) а. Сколько здесь групп 100?

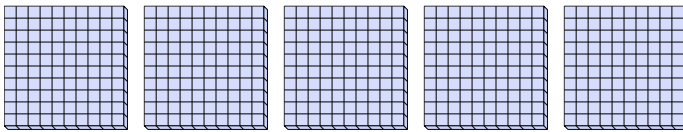
б. Сколько всего малых блоков?



5. 7 700

6) а. Сколько здесь групп 100?

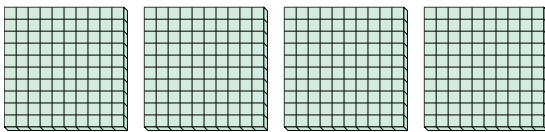
б. Сколько всего малых блоков?



6. 5 500

7) а. Сколько здесь групп 100?

б. Сколько всего малых блоков?



7. 4 400

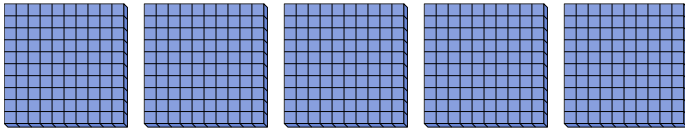


Используйте группы при ответе на вопрос.

**ОТВЕТЫ**

1) а. Сколько здесь групп 100?

б. Сколько всего малых блоков?



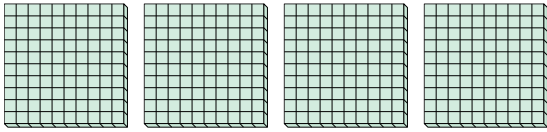
1. \_\_\_\_

2. \_\_\_\_

3. \_\_\_\_

2) а. Сколько здесь групп 100?

б. Сколько всего малых блоков?




4. \_\_\_\_

5. \_\_\_\_

6. \_\_\_\_

3) а. Сколько здесь групп 100?

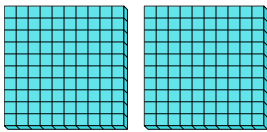
б. Сколько всего малых блоков?



7. \_\_\_\_

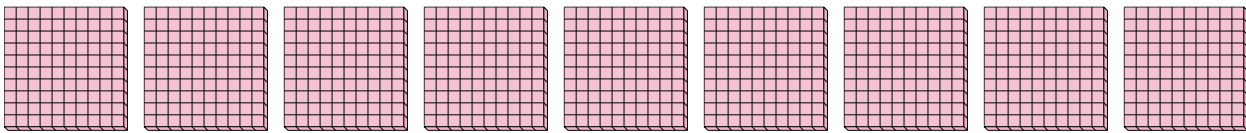
4) а. Сколько здесь групп 100?

б. Сколько всего малых блоков?



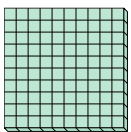
5) а. Сколько здесь групп 100?

б. Сколько всего малых блоков?



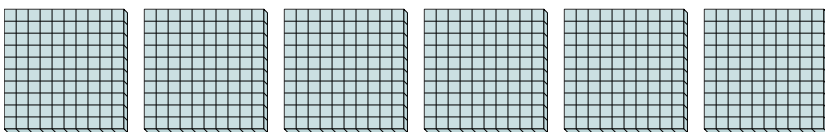
6) а. Сколько здесь групп 100?

б. Сколько всего малых блоков?



7) а. Сколько здесь групп 100?

б. Сколько всего малых блоков?



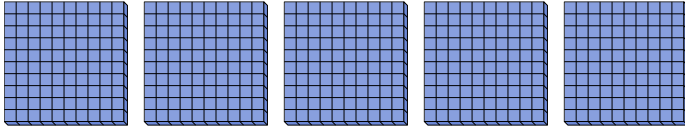


Используйте группы при ответе на вопрос.

**ОТВЕТЫ**

1) а. Сколько здесь групп 100?

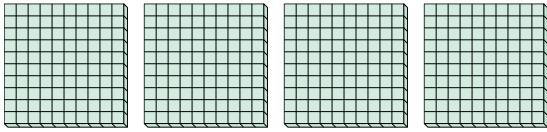
б. Сколько всего малых блоков?



1. 5 500

2) а. Сколько здесь групп 100?


б. Сколько всего малых блоков?



2. 4 400

3) а. Сколько здесь групп 100?

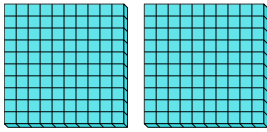
б. Сколько всего малых блоков?



3. 3 300

4) а. Сколько здесь групп 100?

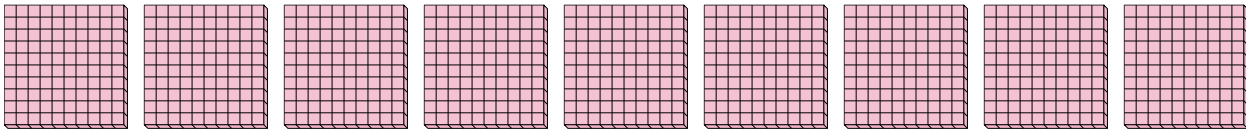
б. Сколько всего малых блоков?



4. 2 200

5) а. Сколько здесь групп 100?

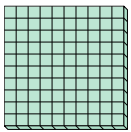
б. Сколько всего малых блоков?



5. 9 900

6) а. Сколько здесь групп 100?

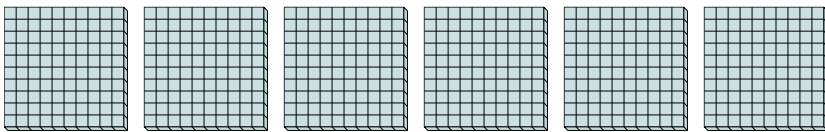
б. Сколько всего малых блоков?



6. 1 100

7) а. Сколько здесь групп 100?

б. Сколько всего малых блоков?



7. 6 600

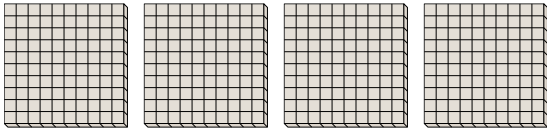


Используйте группы при ответе на вопрос.

**ОТВЕТЫ**

1) а. Сколько здесь групп 100?

б. Сколько всего малых блоков?

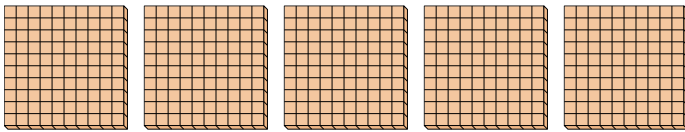


1. \_\_\_\_

2. \_\_\_\_

2) а. Сколько здесь групп 100?

б. Сколько всего малых блоков?

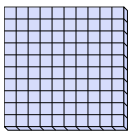


3. \_\_\_\_

4. \_\_\_\_

3) а. Сколько здесь групп 100?

б. Сколько всего малых блоков?



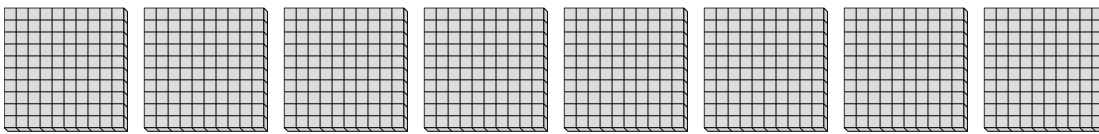
5. \_\_\_\_

6. \_\_\_\_

7. \_\_\_\_

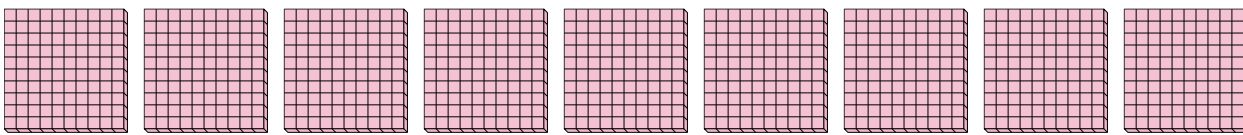
4) а. Сколько здесь групп 100?

б. Сколько всего малых блоков?



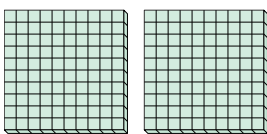
5) а. Сколько здесь групп 100?

б. Сколько всего малых блоков?




6) а. Сколько здесь групп 100?

б. Сколько всего малых блоков?



7) а. Сколько здесь групп 100?

б. Сколько всего малых блоков?



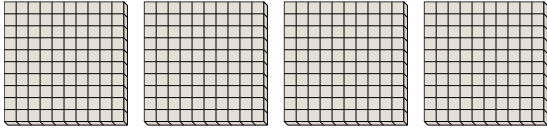


Используйте группы при ответе на вопрос.

**ОТВЕТЫ**

1) а. Сколько здесь групп 100?

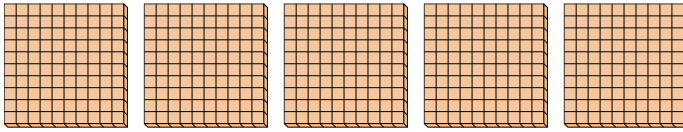
б. Сколько всего малых блоков?



1. 4 400

2) а. Сколько здесь групп 100?

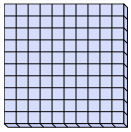
б. Сколько всего малых блоков?



2. 5 500

3) а. Сколько здесь групп 100?


б. Сколько всего малых блоков?



3. 1 100

4) а. Сколько здесь групп 100?

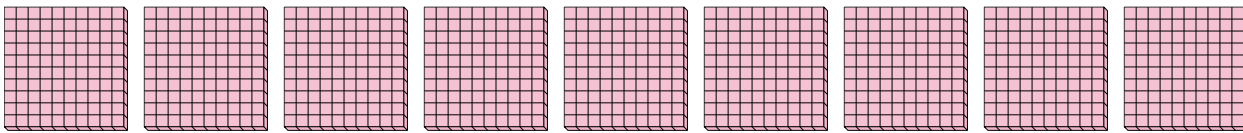
б. Сколько всего малых блоков?



4. 8 800

5) а. Сколько здесь групп 100?

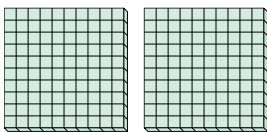
б. Сколько всего малых блоков?



5. 9 900

6) а. Сколько здесь групп 100?

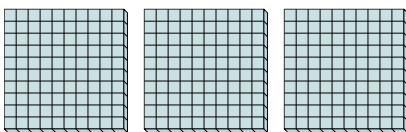
б. Сколько всего малых блоков?



6. 2 200

7) а. Сколько здесь групп 100?

б. Сколько всего малых блоков?



7. 3 300




Используйте группы при ответе на вопрос.

**ОТВЕТЫ**

1) а. Сколько здесь групп 100?

б. Сколько всего малых блоков?

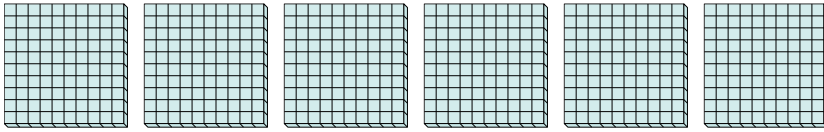


1. \_\_\_\_

2. \_\_\_\_

2) а. Сколько здесь групп 100?

б. Сколько всего малых блоков?

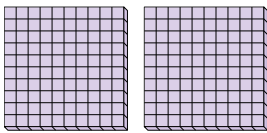


3. \_\_\_\_

4. \_\_\_\_

3) а. Сколько здесь групп 100?

б. Сколько всего малых блоков?

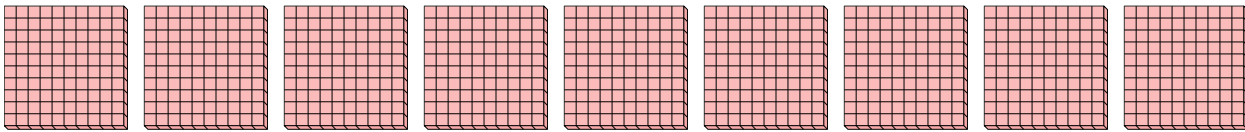


5. \_\_\_\_

6. \_\_\_\_

4) а. Сколько здесь групп 100?

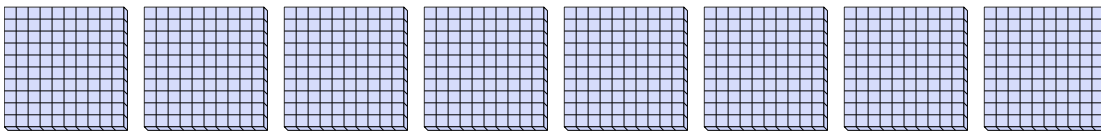
б. Сколько всего малых блоков?



7. \_\_\_\_


5) а. Сколько здесь групп 100?

б. Сколько всего малых блоков?



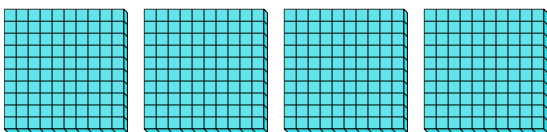
6) а. Сколько здесь групп 100?

б. Сколько всего малых блоков?



7) а. Сколько здесь групп 100?

б. Сколько всего малых блоков?






Используйте группы при ответе на вопрос.

**ОТВЕТЫ**

1) а. Сколько здесь групп 100?

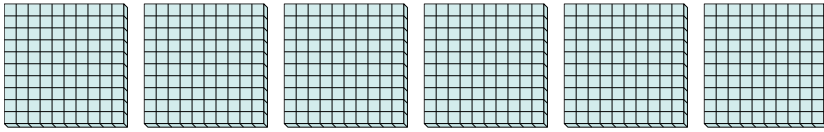
б. Сколько всего малых блоков?



1. 3 300

2) а. Сколько здесь групп 100?

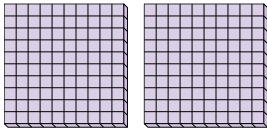
б. Сколько всего малых блоков?



2. 6 600

3) а. Сколько здесь групп 100?

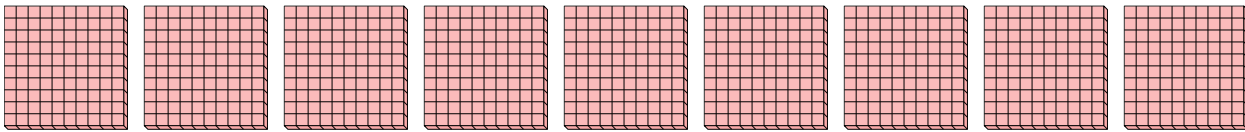
б. Сколько всего малых блоков?



3. 2 200

4) а. Сколько здесь групп 100?

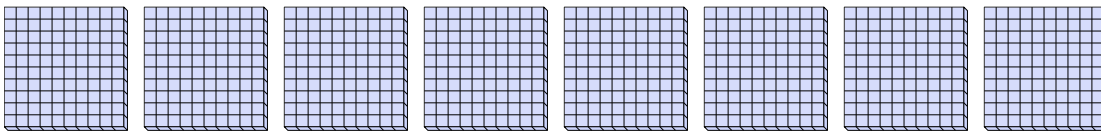
б. Сколько всего малых блоков?



4. 9 900

5) а. Сколько здесь групп 100?


б. Сколько всего малых блоков?



5. 8 800

6) а. Сколько здесь групп 100?

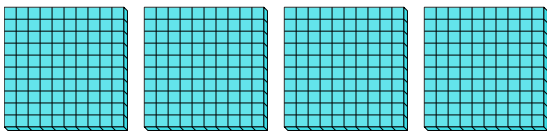
б. Сколько всего малых блоков?



6. 1 100

7) а. Сколько здесь групп 100?

б. Сколько всего малых блоков?



7. 4 400



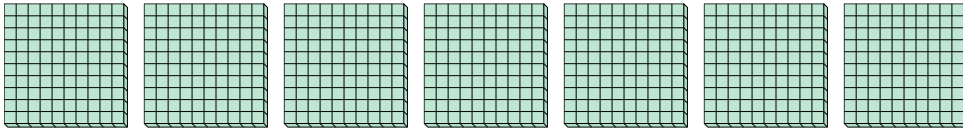


Используйте группы при ответе на вопрос.

**ОТВЕТЫ**

1) а. Сколько здесь групп 100?

б. Сколько всего малых блоков?

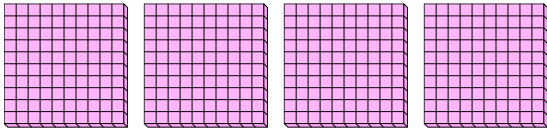


1. \_\_\_\_\_

2. \_\_\_\_\_

2) а. Сколько здесь групп 100?

б. Сколько всего малых блоков?

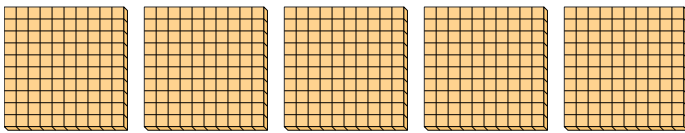


3. \_\_\_\_\_

4. \_\_\_\_\_

3) а. Сколько здесь групп 100?

б. Сколько всего малых блоков?

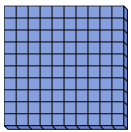


5. \_\_\_\_\_

6. \_\_\_\_\_

4) а. Сколько здесь групп 100?

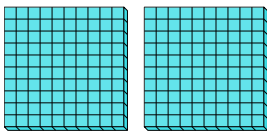
б. Сколько всего малых блоков?



7. \_\_\_\_\_

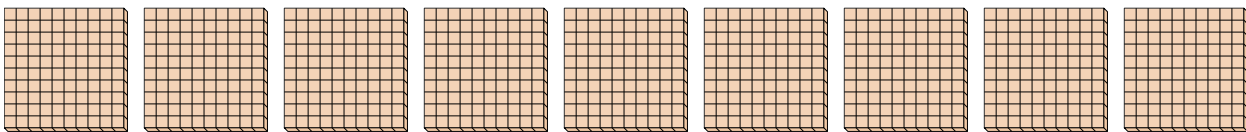
5) а. Сколько здесь групп 100?

б. Сколько всего малых блоков?




6) а. Сколько здесь групп 100?

б. Сколько всего малых блоков?



7) а. Сколько здесь групп 100?

б. Сколько всего малых блоков?



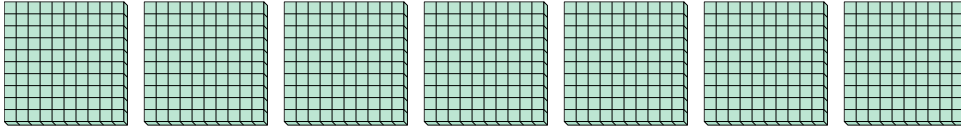


Используйте группы при ответе на вопрос.

**ОТВЕТЫ**

1) а. Сколько здесь групп 100?

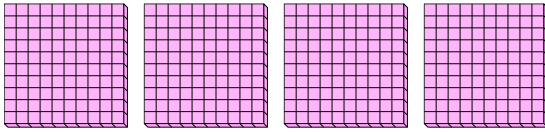
б. Сколько всего малых блоков?



1. 7 700

2) а. Сколько здесь групп 100?

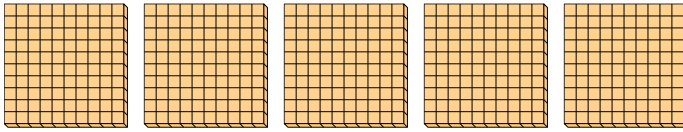
б. Сколько всего малых блоков?



2. 4 400

3) а. Сколько здесь групп 100?

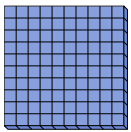
б. Сколько всего малых блоков?



3. 5 500

4) а. Сколько здесь групп 100?

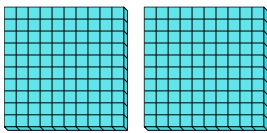
б. Сколько всего малых блоков?



4. 1 100

5) а. Сколько здесь групп 100?

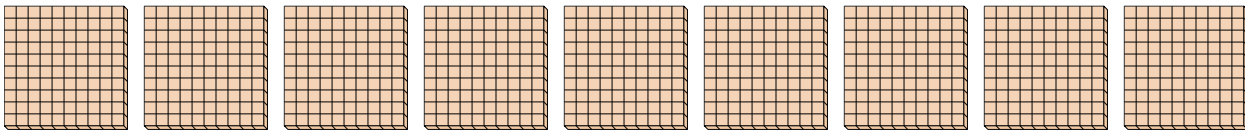
б. Сколько всего малых блоков?



5. 2 200

6) а. Сколько здесь групп 100?


б. Сколько всего малых блоков?



6. 9 900

7) а. Сколько здесь групп 100?

б. Сколько всего малых блоков?



7. 3 300

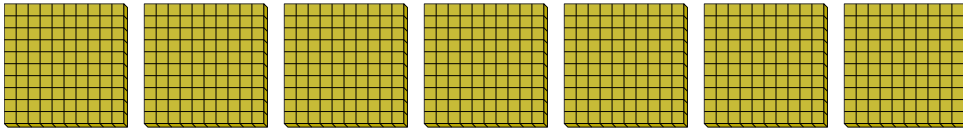


Используйте группы при ответе на вопрос.

**ОТВЕТЫ**

1) а. Сколько здесь групп 100?

б. Сколько всего малых блоков?



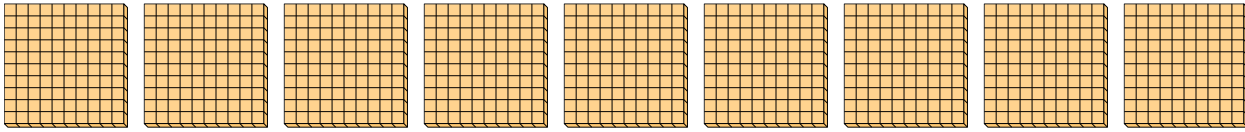
1. \_\_\_\_

2. \_\_\_\_

3. \_\_\_\_

2) а. Сколько здесь групп 100?

б. Сколько всего малых блоков?



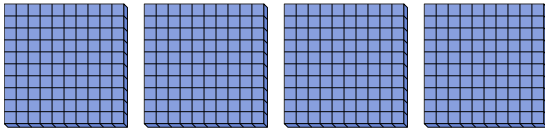
4. \_\_\_\_

5. \_\_\_\_

6. \_\_\_\_

3) а. Сколько здесь групп 100?

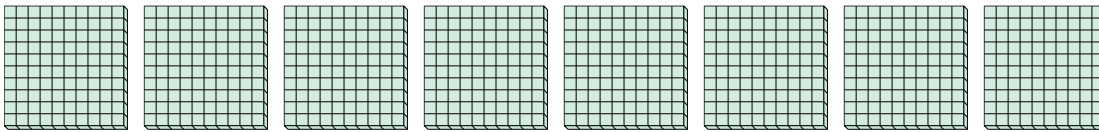
б. Сколько всего малых блоков?



7. \_\_\_\_

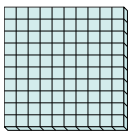
4) а. Сколько здесь групп 100?

б. Сколько всего малых блоков?



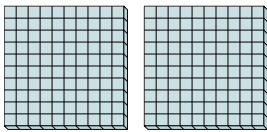
5) а. Сколько здесь групп 100?

б. Сколько всего малых блоков?



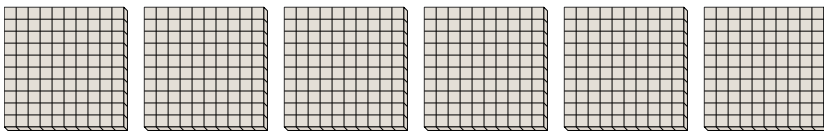
6) а. Сколько здесь групп 100?

б. Сколько всего малых блоков?



7) а. Сколько здесь групп 100?

б. Сколько всего малых блоков?






Используйте группы при ответе на вопрос.

**ОТВЕТЫ**

1) а. Сколько здесь групп 100?

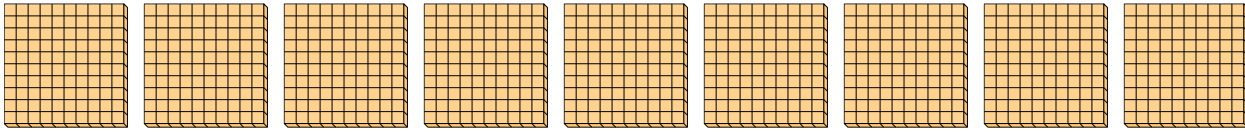
б. Сколько всего малых блоков?



1. 7 700

2) а. Сколько здесь групп 100?

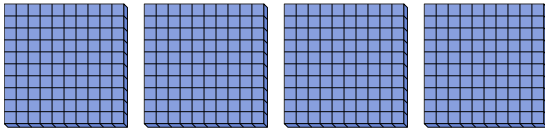
б. Сколько всего малых блоков?



2. 9 900

3) а. Сколько здесь групп 100?

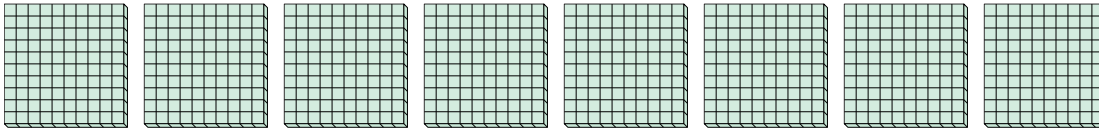
б. Сколько всего малых блоков?



3. 4 400

4) а. Сколько здесь групп 100?

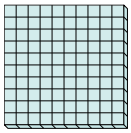
б. Сколько всего малых блоков?



4. 8 800

5) а. Сколько здесь групп 100?

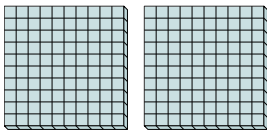
б. Сколько всего малых блоков?



5. 1 100

6) а. Сколько здесь групп 100?

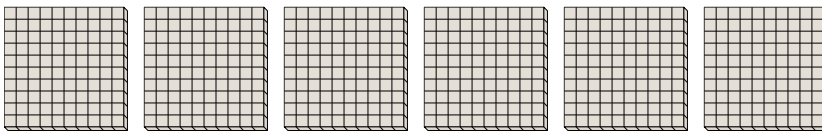
б. Сколько всего малых блоков?



6. 2 200

7) а. Сколько здесь групп 100?

б. Сколько всего малых блоков?



7. 6 600