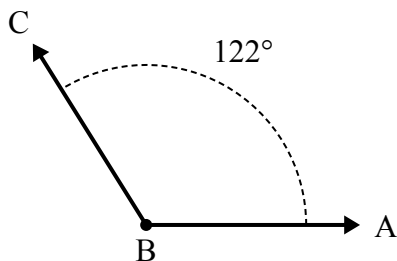




Решите каждую задачу.

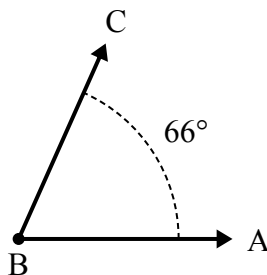
Ответы

1)



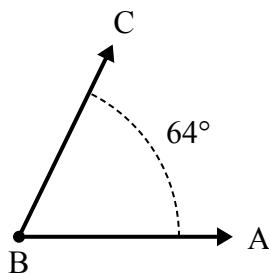
А. Нарисуйте и пометьте луч BD так, чтобы он разрезал угол ABC на два меньших угла, причем угол ABD измеряется в градусах 77.
В. Какая мера угла DBC?

2)



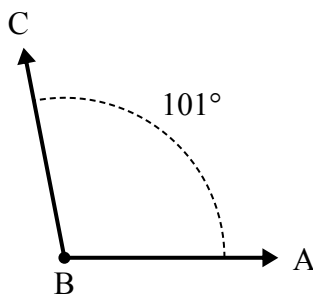
А. Нарисуйте и пометьте луч BD так, чтобы он разрезал угол ABC на два меньших угла, причем угол ABD измеряется в градусах 34.
В. Какая мера угла DBC?

3)



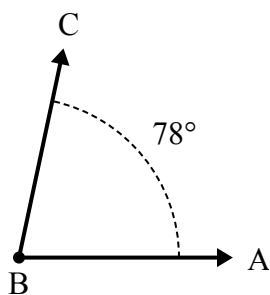
А. Нарисуйте и пометьте луч BD так, чтобы он разрезал угол ABC на два меньших угла, причем угол ABD измеряется в градусах 33.
В. Какая мера угла DBC?

4)



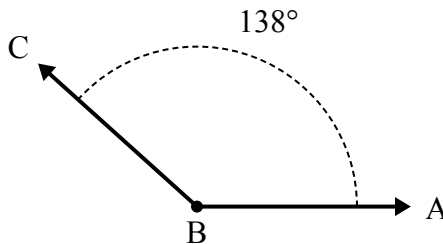
А. Нарисуйте и пометьте луч BD так, чтобы он разрезал угол ABC на два меньших угла, причем угол ABD измеряется в градусах 46.
В. Какая мера угла DBC?

5)



А. Нарисуйте и пометьте луч BD так, чтобы он разрезал угол ABC на два меньших угла, причем угол ABD измеряется в градусах 31.
В. Какая мера угла DBC?

6)

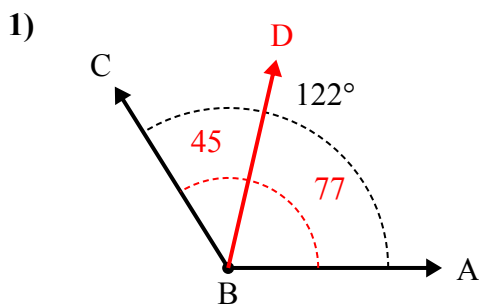


А. Нарисуйте и пометьте луч BD так, чтобы он разрезал угол ABC на два меньших угла, причем угол ABD измеряется в градусах 106.
В. Какая мера угла DBC?

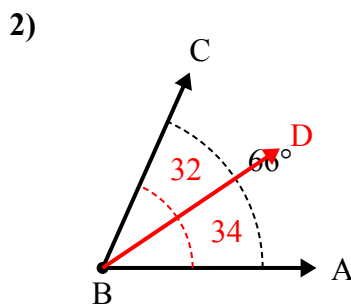
1. _____
2. _____
3. _____
4. _____
5. _____
6. _____



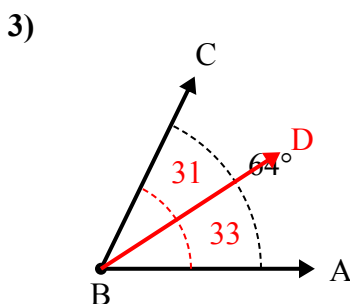
Решите каждую задачу.



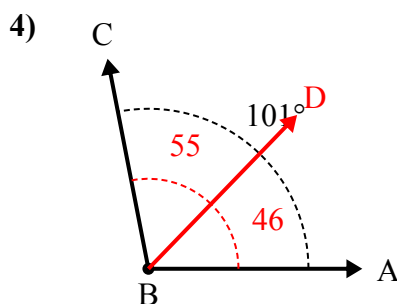
А. Нарисуйте и пометьте луч BD так, чтобы он разрезал угол ABC на два меньших угла, причем угол ABD измеряется в градусах 77.
В. Какая мера угла DBC?



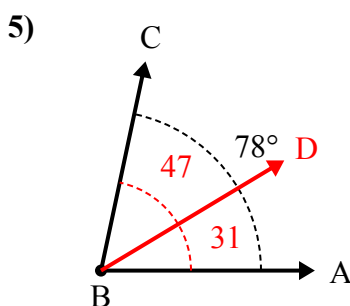
А. Нарисуйте и пометьте луч BD так, чтобы он разрезал угол ABC на два меньших угла, причем угол ABD измеряется в градусах 34.
В. Какая мера угла DBC?



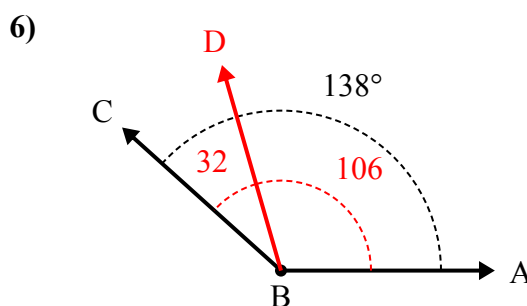
А. Нарисуйте и пометьте луч BD так, чтобы он разрезал угол ABC на два меньших угла, причем угол ABD измеряется в градусах 33.
В. Какая мера угла DBC?



А. Нарисуйте и пометьте луч BD так, чтобы он разрезал угол ABC на два меньших угла, причем угол ABD измеряется в градусах 46.
В. Какая мера угла DBC?



А. Нарисуйте и пометьте луч BD так, чтобы он разрезал угол ABC на два меньших угла, причем угол ABD измеряется в градусах 31.
В. Какая мера угла DBC?



А. Нарисуйте и пометьте луч BD так, чтобы он разрезал угол ABC на два меньших угла, причем угол ABD измеряется в градусах 106.
В. Какая мера угла DBC?

Ответы

1. 45°
2. 32°
3. 31°
4. 55°
5. 47°
6. 32°