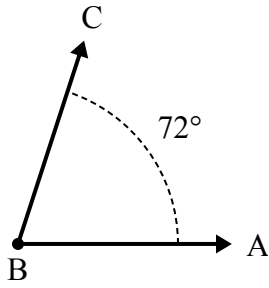




Решите каждую задачу.

Ответы

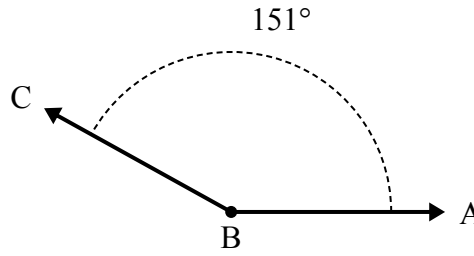
1)



А. Нарисуйте и пометьте луч  $BD$  так, чтобы он разрезал угол  $ABC$  на два меньших угла, причем угол  $ABD$  измеряется в градусах 32.

В. Какая мера угла  $DBC$ ?

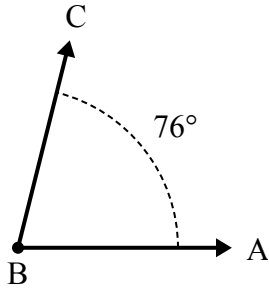
2)



А. Нарисуйте и пометьте луч  $BD$  так, чтобы он разрезал угол  $ABC$  на два меньших угла, причем угол  $DBC$  измеряется в градусах 44.

В. Какая мера угла  $ABD$ ?

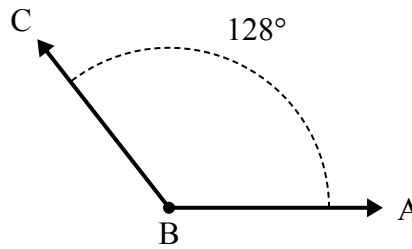
3)



А. Нарисуйте и пометьте луч  $BD$  так, чтобы он разрезал угол  $ABC$  на два меньших угла, причем угол  $DBC$  измеряется в градусах 34.

В. Какая мера угла  $ABD$ ?

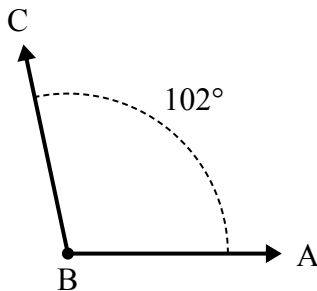
4)



А. Нарисуйте и пометьте луч  $BD$  так, чтобы он разрезал угол  $ABC$  на два меньших угла, причем угол  $ABD$  измеряется в градусах 71.

В. Какая мера угла  $DBC$ ?

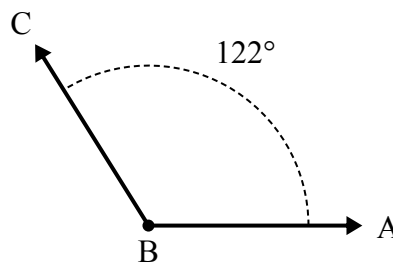
5)



А. Нарисуйте и пометьте луч  $BD$  так, чтобы он разрезал угол  $ABC$  на два меньших угла, причем угол  $DBC$  измеряется в градусах 56.

В. Какая мера угла  $ABD$ ?

6)



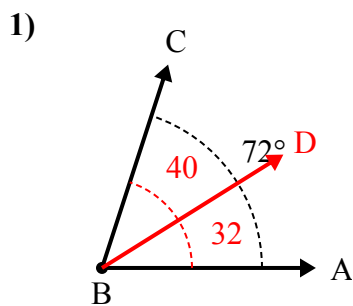
А. Нарисуйте и пометьте луч  $BD$  так, чтобы он разрезал угол  $ABC$  на два меньших угла, причем угол  $DBC$  измеряется в градусах 88.

В. Какая мера угла  $ABD$ ?

1. \_\_\_\_\_
2. \_\_\_\_\_
3. \_\_\_\_\_
4. \_\_\_\_\_
5. \_\_\_\_\_
6. \_\_\_\_\_

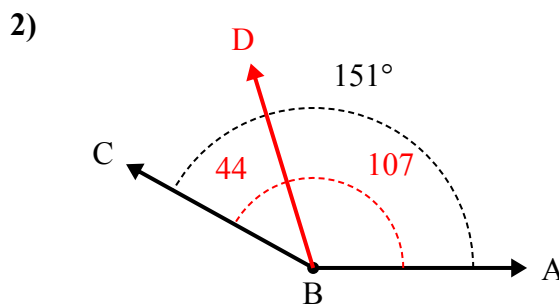


Решите каждую задачу.



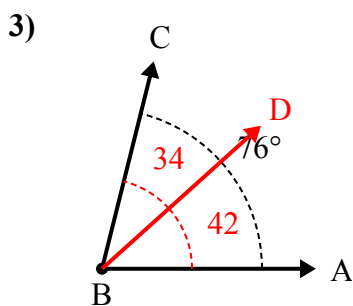
А. Нарисуйте и пометьте луч  $BD$  так, чтобы он разрезал угол  $ABC$  на два меньших угла, причем угол  $ABD$  измеряется в градусах 32.

В. Какая мера угла  $DBC$ ?



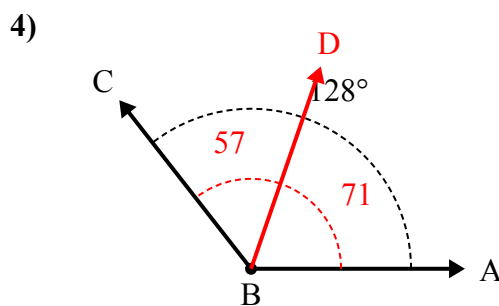
А. Нарисуйте и пометьте луч  $BD$  так, чтобы он разрезал угол  $ABC$  на два меньших угла, причем угол  $DBC$  измеряется в градусах 44.

В. Какая мера угла  $ABD$ ?



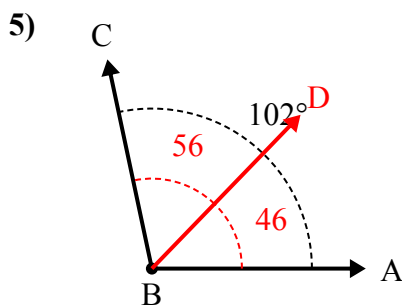
А. Нарисуйте и пометьте луч  $BD$  так, чтобы он разрезал угол  $ABC$  на два меньших угла, причем угол  $DBC$  измеряется в градусах 34.

В. Какая мера угла  $ABD$ ?



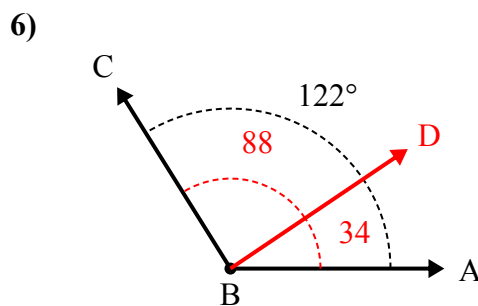
А. Нарисуйте и пометьте луч  $BD$  так, чтобы он разрезал угол  $ABC$  на два меньших угла, причем угол  $ABD$  измеряется в градусах 71.

В. Какая мера угла  $DBC$ ?



А. Нарисуйте и пометьте луч  $BD$  так, чтобы он разрезал угол  $ABC$  на два меньших угла, причем угол  $DBC$  измеряется в градусах 56.

В. Какая мера угла  $ABD$ ?



А. Нарисуйте и пометьте луч  $BD$  так, чтобы он разрезал угол  $ABC$  на два меньших угла, причем угол  $DBC$  измеряется в градусах 88.

В. Какая мера угла  $ABD$ ?

**Ответы**

1. 40°
2. 107°
3. 42°
4. 57°
5. 46°
6. 34°