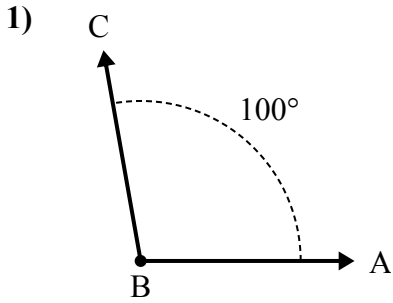


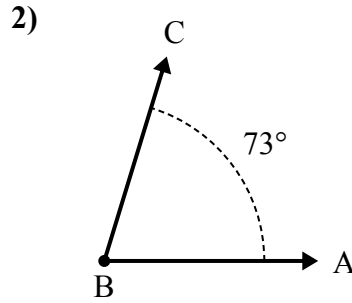


Решите каждую задачу.

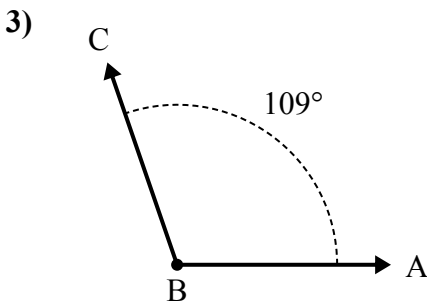
Ответы



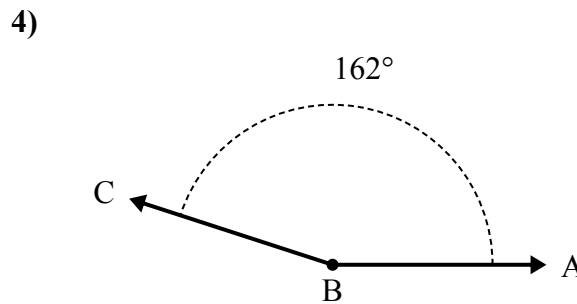
А. Нарисуйте и пометьте луч BD так, чтобы он разрезал угол ABC на два меньших угла, причем угол DBC измеряется в градусах 49 .
В. Какая мера угла ABD ?



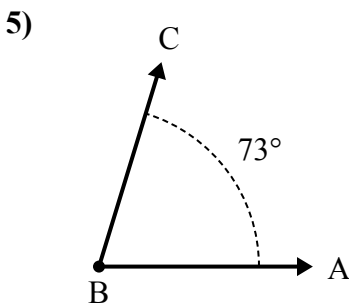
А. Нарисуйте и пометьте луч BD так, чтобы он разрезал угол ABC на два меньших угла, причем угол DBC измеряется в градусах 36 .
В. Какая мера угла ABD ?



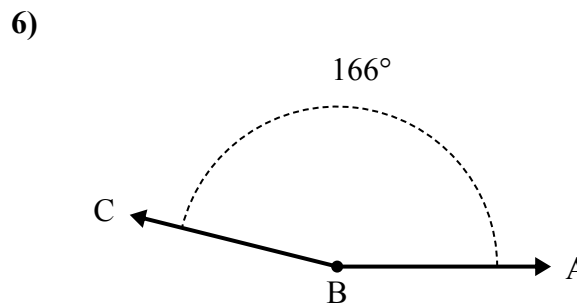
А. Нарисуйте и пометьте луч BD так, чтобы он разрезал угол ABC на два меньших угла, причем угол ABD измеряется в градусах 62 .
В. Какая мера угла DBC ?



А. Нарисуйте и пометьте луч BD так, чтобы он разрезал угол ABC на два меньших угла, причем угол ABD измеряется в градусах 74 .
В. Какая мера угла DBC ?



А. Нарисуйте и пометьте луч BD так, чтобы он разрезал угол ABC на два меньших угла, причем угол DBC измеряется в градусах 39 .
В. Какая мера угла ABD ?



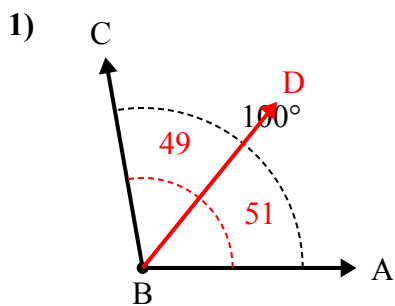
А. Нарисуйте и пометьте луч BD так, чтобы он разрезал угол ABC на два меньших угла, причем угол DBC измеряется в градусах 50 .
В. Какая мера угла ABD ?

1. _____
2. _____
3. _____
4. _____
5. _____
6. _____

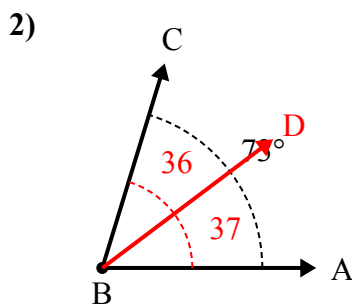


Решите каждую задачу.

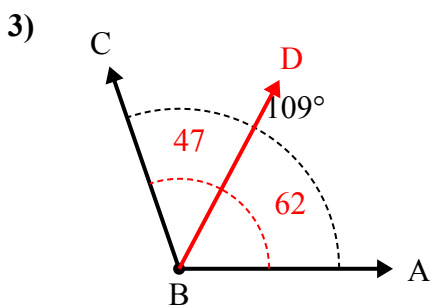
Ответы



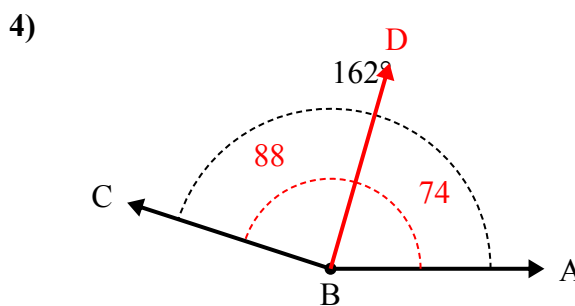
А. Нарисуйте и пометьте луч BD так, чтобы он разрезал угол ABC на два меньших угла, причем угол DBC измеряется в градусах 49.
В. Какая мера угла ABD?



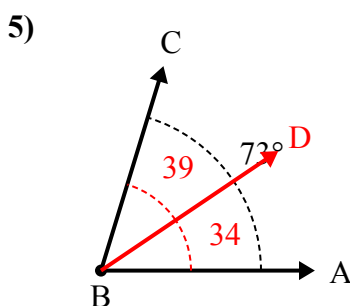
А. Нарисуйте и пометьте луч BD так, чтобы он разрезал угол ABC на два меньших угла, причем угол DBC измеряется в градусах 36.
В. Какая мера угла ABD?



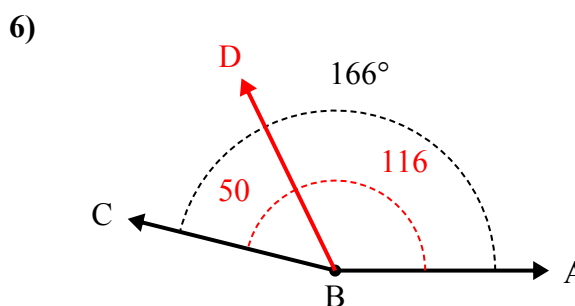
А. Нарисуйте и пометьте луч BD так, чтобы он разрезал угол ABC на два меньших угла, причем угол ABD измеряется в градусах 62.
В. Какая мера угла DBC?



А. Нарисуйте и пометьте луч BD так, чтобы он разрезал угол ABC на два меньших угла, причем угол ABD измеряется в градусах 74.
В. Какая мера угла DBC?



А. Нарисуйте и пометьте луч BD так, чтобы он разрезал угол ABC на два меньших угла, причем угол DBC измеряется в градусах 39.
В. Какая мера угла ABD?



А. Нарисуйте и пометьте луч BD так, чтобы он разрезал угол ABC на два меньших угла, причем угол DBC измеряется в градусах 50.
В. Какая мера угла ABD?

1. 51°
2. 37°
3. 47°
4. 88°
5. 34°
6. 116°