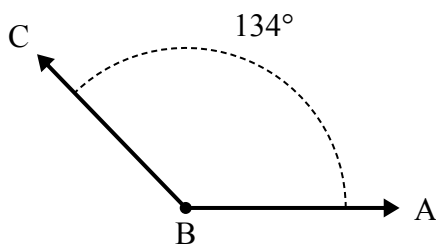




Решите каждую задачу.

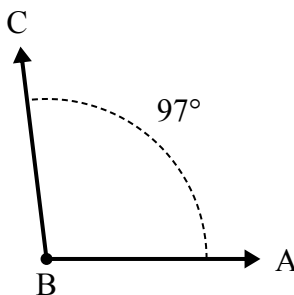
Ответы

1)



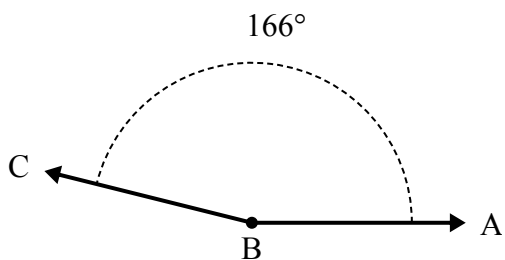
А. Нарисуйте и пометьте луч BD так, чтобы он разрезал угол ABC на два меньших угла, причем угол ABD измеряется в градусах 50.
В. Какая мера угла DBC ?

2)



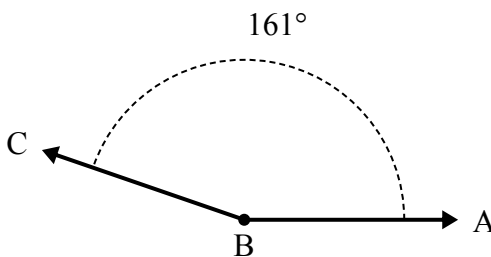
А. Нарисуйте и пометьте луч BD так, чтобы он разрезал угол ABC на два меньших угла, причем угол ABD измеряется в градусах 66.
В. Какая мера угла DBC ?

3)



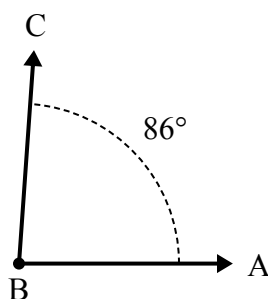
А. Нарисуйте и пометьте луч BD так, чтобы он разрезал угол ABC на два меньших угла, причем угол DBC измеряется в градусах 52.
В. Какая мера угла ABD ?

4)



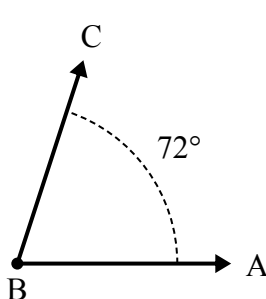
А. Нарисуйте и пометьте луч BD так, чтобы он разрезал угол ABC на два меньших угла, причем угол DBC измеряется в градусах 99.
В. Какая мера угла ABD ?

5)



А. Нарисуйте и пометьте луч BD так, чтобы он разрезал угол ABC на два меньших угла, причем угол DBC измеряется в градусах 33.
В. Какая мера угла ABD ?

6)



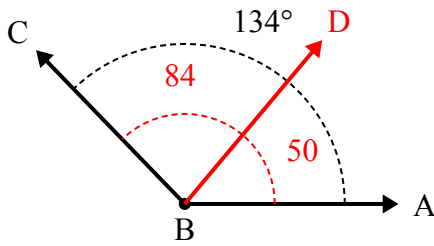
А. Нарисуйте и пометьте луч BD так, чтобы он разрезал угол ABC на два меньших угла, причем угол DBC измеряется в градусах 31.
В. Какая мера угла ABD ?

1. _____
2. _____
3. _____
4. _____
5. _____
6. _____



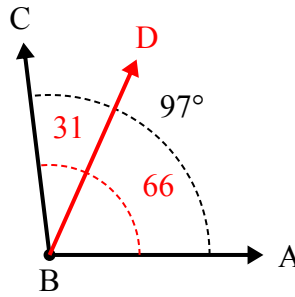
Решите каждую задачу.

1)



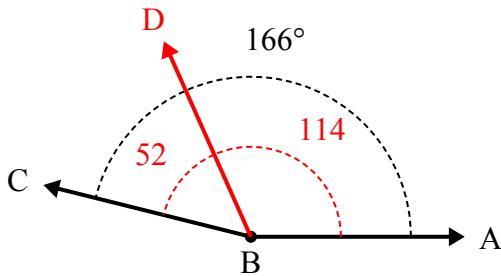
А. Нарисуйте и пометьте луч BD так, чтобы он разрезал угол ABC на два меньших угла, причем угол ABD измеряется в градусах 50.
В. Какая мера угла DBC ?

2)



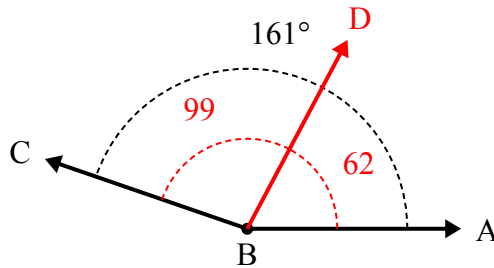
А. Нарисуйте и пометьте луч BD так, чтобы он разрезал угол ABC на два меньших угла, причем угол ABD измеряется в градусах 66.
В. Какая мера угла DBC ?

3)



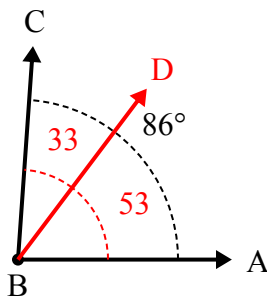
А. Нарисуйте и пометьте луч BD так, чтобы он разрезал угол ABC на два меньших угла, причем угол DBC измеряется в градусах 52.
В. Какая мера угла ABD ?

4)



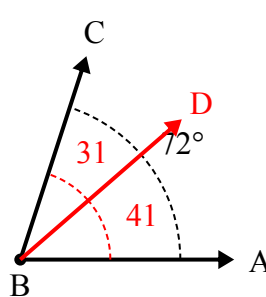
А. Нарисуйте и пометьте луч BD так, чтобы он разрезал угол ABC на два меньших угла, причем угол DBC измеряется в градусах 99.
В. Какая мера угла ABD ?

5)



А. Нарисуйте и пометьте луч BD так, чтобы он разрезал угол ABC на два меньших угла, причем угол DBC измеряется в градусах 33.
В. Какая мера угла ABD ?

6)



А. Нарисуйте и пометьте луч BD так, чтобы он разрезал угол ABC на два меньших угла, причем угол DBC измеряется в градусах 31.
В. Какая мера угла ABD ?

Отвeты

1. 84°
2. 31°
3. 114°
4. 62°
5. 53°
6. 41°