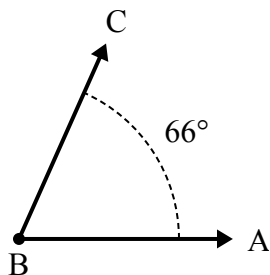




Решите каждую задачу.

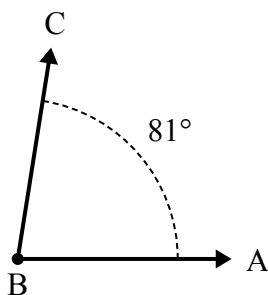
Ответы

1)



А. Нарисуйте и пометьте луч BD так, чтобы он разрезал угол ABC на два меньших угла, причем угол DBC измеряется в градусах 31.
 В. Какая мера угла ABD ?

2)



А. Нарисуйте и пометьте луч BD так, чтобы он разрезал угол ABC на два меньших угла, причем угол ABD измеряется в градусах 31.
 В. Какая мера угла DBC ?

1. _____

2. _____

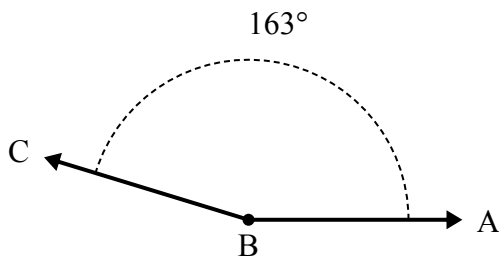
3. _____

4. _____

5. _____

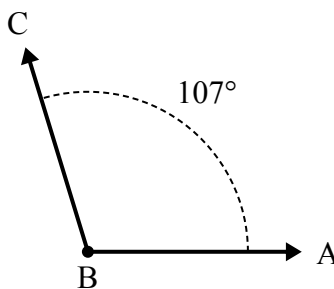
6. _____

3)



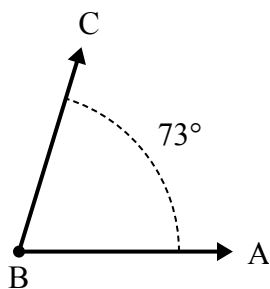
А. Нарисуйте и пометьте луч BD так, чтобы он разрезал угол ABC на два меньших угла, причем угол ABD измеряется в градусах 73.
 В. Какая мера угла DBC ?

4)



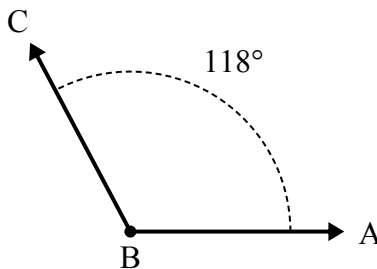
А. Нарисуйте и пометьте луч BD так, чтобы он разрезал угол ABC на два меньших угла, причем угол DBC измеряется в градусах 58.
 В. Какая мера угла ABD ?

5)



А. Нарисуйте и пометьте луч BD так, чтобы он разрезал угол ABC на два меньших угла, причем угол DBC измеряется в градусах 33.
 В. Какая мера угла ABD ?

6)

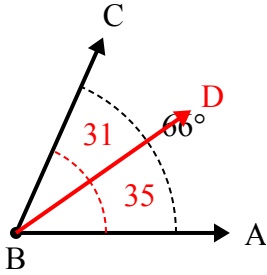


А. Нарисуйте и пометьте луч BD так, чтобы он разрезал угол ABC на два меньших угла, причем угол DBC измеряется в градусах 31.
 В. Какая мера угла ABD ?



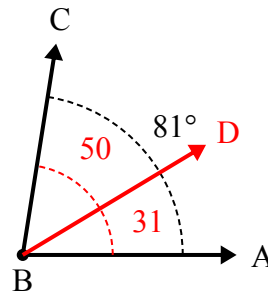
Решите каждую задачу.

1)



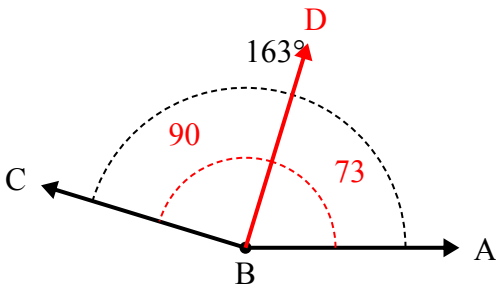
А. Нарисуйте и пометьте луч BD так, чтобы он разрезал угол ABC на два меньших угла, причем угол DBC измеряется в градусах 31.
В. Какая мера угла ABD?

2)



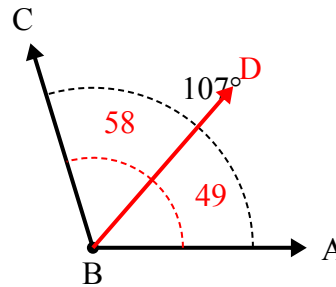
А. Нарисуйте и пометьте луч BD так, чтобы он разрезал угол ABC на два меньших угла, причем угол ABD измеряется в градусах 31.
В. Какая мера угла DBC?

3)



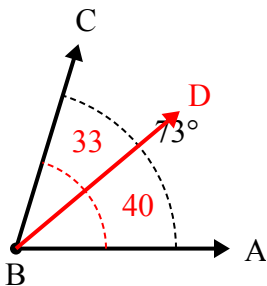
А. Нарисуйте и пометьте луч BD так, чтобы он разрезал угол ABC на два меньших угла, причем угол ABD измеряется в градусах 73.
В. Какая мера угла DBC?

4)



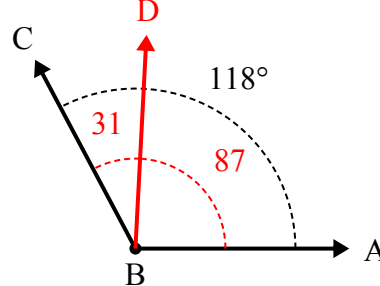
А. Нарисуйте и пометьте луч BD так, чтобы он разрезал угол ABC на два меньших угла, причем угол DBC измеряется в градусах 58.
В. Какая мера угла ABD?

5)



А. Нарисуйте и пометьте луч BD так, чтобы он разрезал угол ABC на два меньших угла, причем угол DBC измеряется в градусах 33.
В. Какая мера угла ABD?

6)



А. Нарисуйте и пометьте луч BD так, чтобы он разрезал угол ABC на два меньших угла, причем угол DBC измеряется в градусах 31.
В. Какая мера угла ABD?

Ответы

1. 35°
2. 50°
3. 90°
4. 49°
5. 40°
6. 87°