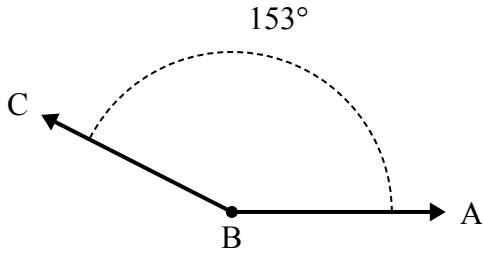




Решите каждую задачу.

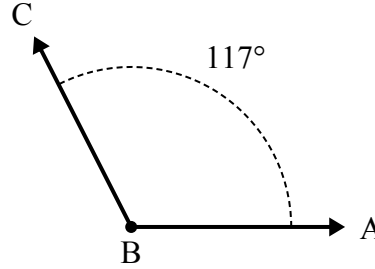
**Ответы**

1)



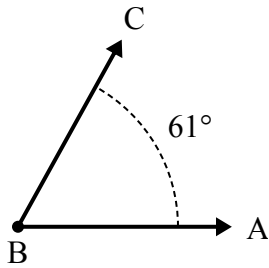
А. Нарисуйте и пометьте луч  $BD$  так, чтобы он разрезал угол  $ABC$  на два меньших угла, причем угол  $DBC$  измеряется в градусах  $90$ .  
В. Какая мера угла  $ABD$ ?

2)



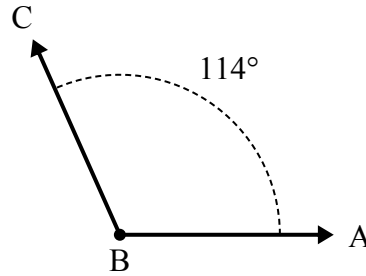
А. Нарисуйте и пометьте луч  $BD$  так, чтобы он разрезал угол  $ABC$  на два меньших угла, причем угол  $DBC$  измеряется в градусах  $78$ .  
В. Какая мера угла  $ABD$ ?

3)



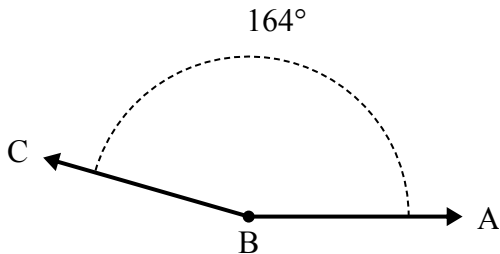
А. Нарисуйте и пометьте луч  $BD$  так, чтобы он разрезал угол  $ABC$  на два меньших угла, причем угол  $ABD$  измеряется в градусах  $30$ .  
В. Какая мера угла  $DBC$ ?

4)



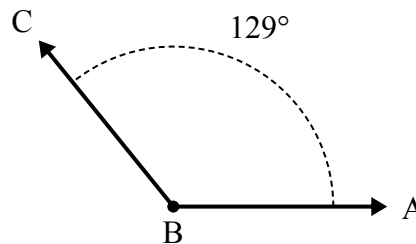
А. Нарисуйте и пометьте луч  $BD$  так, чтобы он разрезал угол  $ABC$  на два меньших угла, причем угол  $DBC$  измеряется в градусах  $49$ .  
В. Какая мера угла  $ABD$ ?

5)



А. Нарисуйте и пометьте луч  $BD$  так, чтобы он разрезал угол  $ABC$  на два меньших угла, причем угол  $DBC$  измеряется в градусах  $70$ .  
В. Какая мера угла  $ABD$ ?

6)



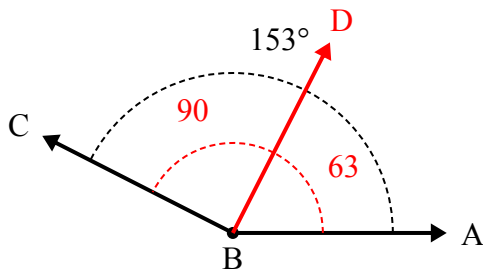
А. Нарисуйте и пометьте луч  $BD$  так, чтобы он разрезал угол  $ABC$  на два меньших угла, причем угол  $ABD$  измеряется в градусах  $43$ .  
В. Какая мера угла  $DBC$ ?

1. \_\_\_\_\_
2. \_\_\_\_\_
3. \_\_\_\_\_
4. \_\_\_\_\_
5. \_\_\_\_\_
6. \_\_\_\_\_



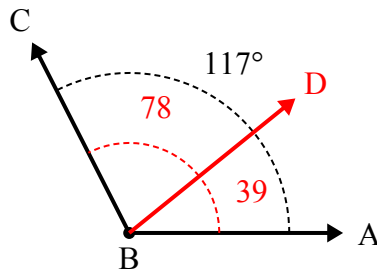
Решите каждую задачу.

1)



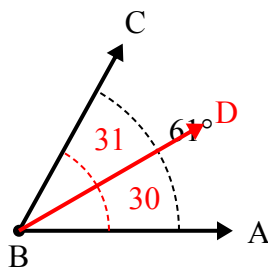
А. Нарисуйте и пометьте луч  $BD$  так, чтобы он разрезал угол  $ABC$  на два меньших угла, причем угол  $DBC$  измеряется в градусах  $90$ .  
В. Какая мера угла  $ABD$ ?

2)



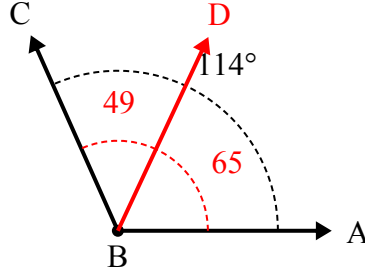
А. Нарисуйте и пометьте луч  $BD$  так, чтобы он разрезал угол  $ABC$  на два меньших угла, причем угол  $DBC$  измеряется в градусах  $78$ .  
В. Какая мера угла  $ABD$ ?

3)



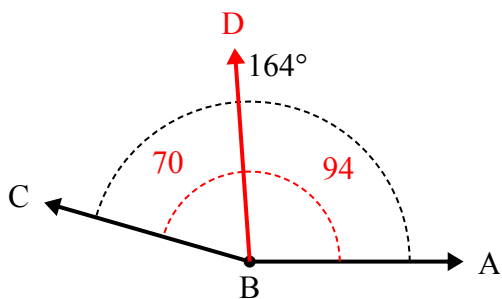
А. Нарисуйте и пометьте луч  $BD$  так, чтобы он разрезал угол  $ABC$  на два меньших угла, причем угол  $ABD$  измеряется в градусах  $30$ .  
В. Какая мера угла  $DBC$ ?

4)



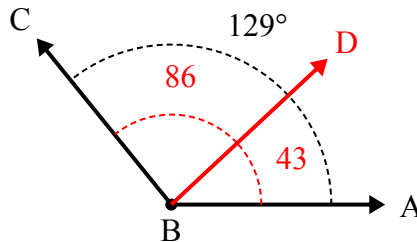
А. Нарисуйте и пометьте луч  $BD$  так, чтобы он разрезал угол  $ABC$  на два меньших угла, причем угол  $DBC$  измеряется в градусах  $49$ .  
В. Какая мера угла  $ABD$ ?

5)



А. Нарисуйте и пометьте луч  $BD$  так, чтобы он разрезал угол  $ABC$  на два меньших угла, причем угол  $DBC$  измеряется в градусах  $70$ .  
В. Какая мера угла  $ABD$ ?

6)



А. Нарисуйте и пометьте луч  $BD$  так, чтобы он разрезал угол  $ABC$  на два меньших угла, причем угол  $ABD$  измеряется в градусах  $43$ .  
В. Какая мера угла  $DBC$ ?

**Отвeты**

1. 63°
2. 39°
3. 31°
4. 65°
5. 94°
6. 86°