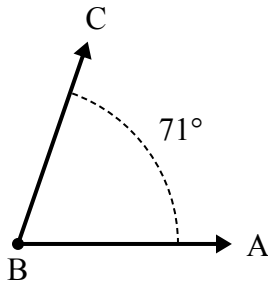




Решите каждую задачу.

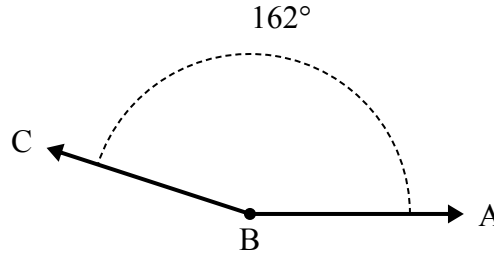
Ответы

1)



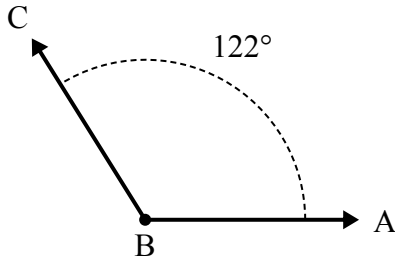
А. Нарисуйте и пометьте луч BD так, чтобы он разрезал угол ABC на два меньших угла, причем угол ABD измеряется в градусах 41 .
В. Какая мера угла DBC ?

2)



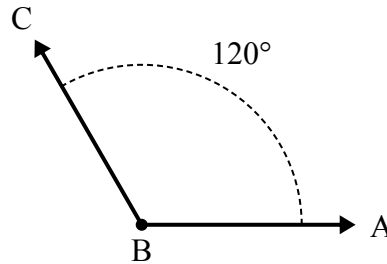
А. Нарисуйте и пометьте луч BD так, чтобы он разрезал угол ABC на два меньших угла, причем угол ABD измеряется в градусах 68 .
В. Какая мера угла DBC ?

3)



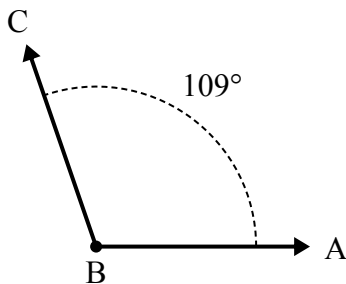
А. Нарисуйте и пометьте луч BD так, чтобы он разрезал угол ABC на два меньших угла, причем угол ABD измеряется в градусах 75 .
В. Какая мера угла DBC ?

4)



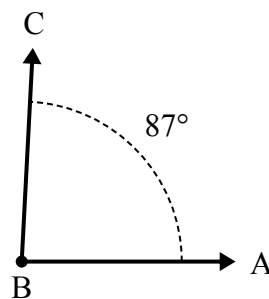
А. Нарисуйте и пометьте луч BD так, чтобы он разрезал угол ABC на два меньших угла, причем угол DBC измеряется в градусах 53 .
В. Какая мера угла ABD ?

5)



А. Нарисуйте и пометьте луч BD так, чтобы он разрезал угол ABC на два меньших угла, причем угол ABD измеряется в градусах 55 .
В. Какая мера угла DBC ?

6)



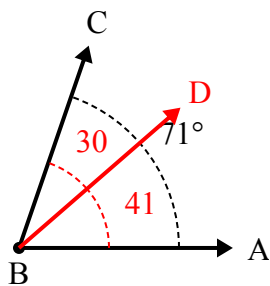
А. Нарисуйте и пометьте луч BD так, чтобы он разрезал угол ABC на два меньших угла, причем угол DBC измеряется в градусах 56 .
В. Какая мера угла ABD ?

1. _____
2. _____
3. _____
4. _____
5. _____
6. _____



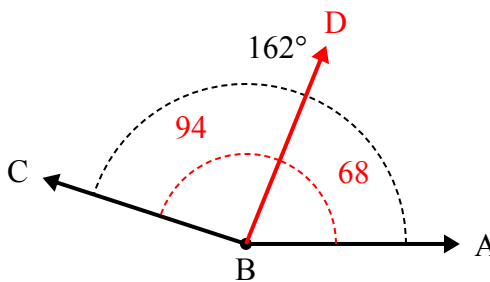
Решите каждую задачу.

1)



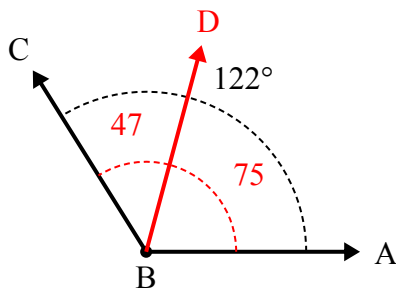
А. Нарисуйте и пометьте луч BD так, чтобы он разрезал угол ABC на два меньших угла, причем угол ABD измеряется в градусах 41.
В. Какая мера угла DBC?

2)



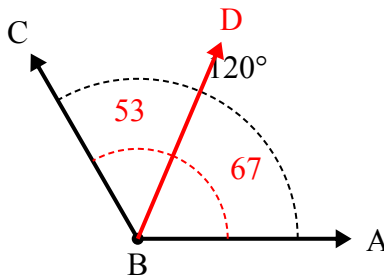
А. Нарисуйте и пометьте луч BD так, чтобы он разрезал угол ABC на два меньших угла, причем угол ABD измеряется в градусах 68.
В. Какая мера угла DBC?

3)



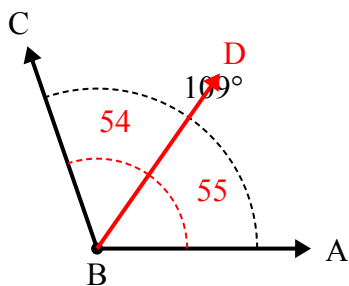
А. Нарисуйте и пометьте луч BD так, чтобы он разрезал угол ABC на два меньших угла, причем угол ABD измеряется в градусах 75.
В. Какая мера угла DBC?

4)



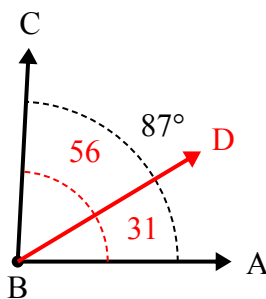
А. Нарисуйте и пометьте луч BD так, чтобы он разрезал угол ABC на два меньших угла, причем угол DBC измеряется в градусах 53.
В. Какая мера угла ABD?

5)



А. Нарисуйте и пометьте луч BD так, чтобы он разрезал угол ABC на два меньших угла, причем угол ABD измеряется в градусах 55.
В. Какая мера угла DBC?

6)



А. Нарисуйте и пометьте луч BD так, чтобы он разрезал угол ABC на два меньших угла, причем угол DBC измеряется в градусах 56.
В. Какая мера угла ABD?

Отвeты

1. 30°
2. 94°
3. 47°
4. 67°
5. 54°
6. 31°