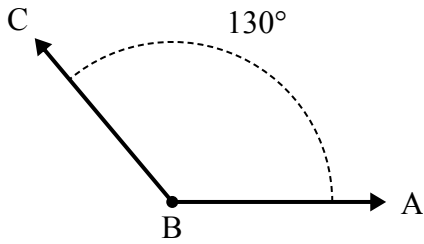




Решите каждую задачу.

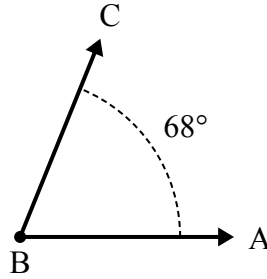
Ответы

1)



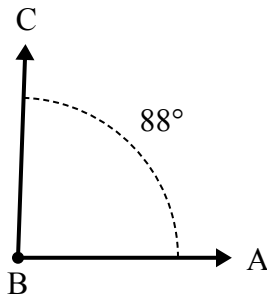
А. Нарисуйте и пометьте луч BD так, чтобы он разрезал угол ABC на два меньших угла, причем угол ABD измеряется в градусах 79 .
В. Какая мера угла DBC ?

2)



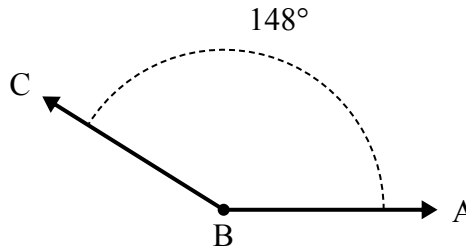
А. Нарисуйте и пометьте луч BD так, чтобы он разрезал угол ABC на два меньших угла, причем угол ABD измеряется в градусах 37 .
В. Какая мера угла DBC ?

3)



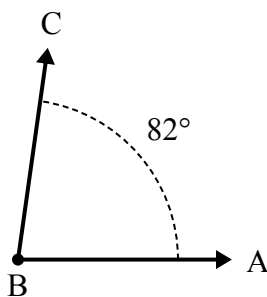
А. Нарисуйте и пометьте луч BD так, чтобы он разрезал угол ABC на два меньших угла, причем угол ABD измеряется в градусах 56 .
В. Какая мера угла DBC ?

4)



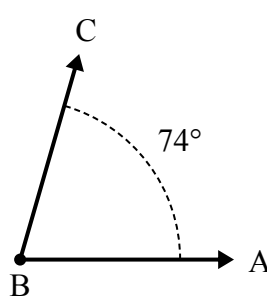
А. Нарисуйте и пометьте луч BD так, чтобы он разрезал угол ABC на два меньших угла, причем угол DBC измеряется в градусах 71 .
В. Какая мера угла ABD ?

5)



А. Нарисуйте и пометьте луч BD так, чтобы он разрезал угол ABC на два меньших угла, причем угол ABD измеряется в градусах 30 .
В. Какая мера угла DBC ?

6)



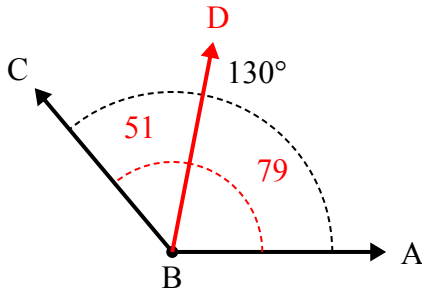
А. Нарисуйте и пометьте луч BD так, чтобы он разрезал угол ABC на два меньших угла, причем угол DBC измеряется в градусах 34 .
В. Какая мера угла ABD ?

1. _____
2. _____
3. _____
4. _____
5. _____
6. _____



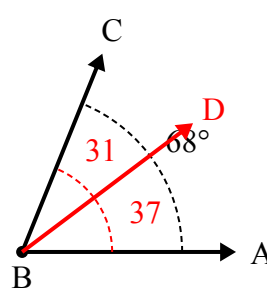
Решите каждую задачу.

1)



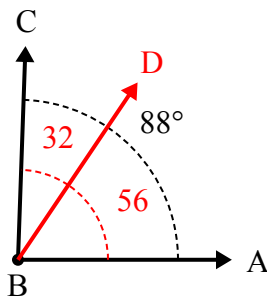
А. Нарисуйте и пометьте луч BD так, чтобы он разрезал угол ABC на два меньших угла, причем угол ABD измеряется в градусах 79 .
В. Какая мера угла DBC ?

2)



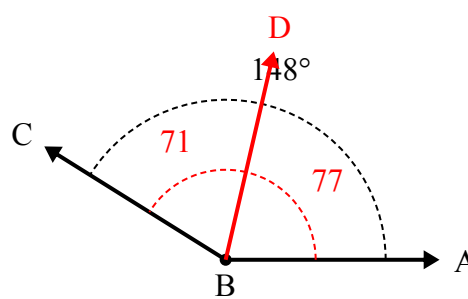
А. Нарисуйте и пометьте луч BD так, чтобы он разрезал угол ABC на два меньших угла, причем угол ABD измеряется в градусах 37 .
В. Какая мера угла DBC ?

3)



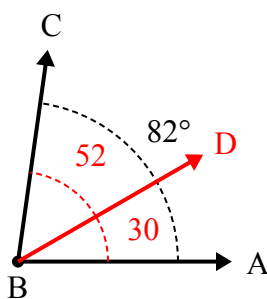
А. Нарисуйте и пометьте луч BD так, чтобы он разрезал угол ABC на два меньших угла, причем угол ABD измеряется в градусах 56 .
В. Какая мера угла DBC ?

4)



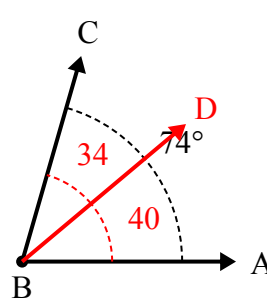
А. Нарисуйте и пометьте луч BD так, чтобы он разрезал угол ABC на два меньших угла, причем угол DBC измеряется в градусах 71 .
В. Какая мера угла ABD ?

5)



А. Нарисуйте и пометьте луч BD так, чтобы он разрезал угол ABC на два меньших угла, причем угол ABD измеряется в градусах 30 .
В. Какая мера угла DBC ?

6)



А. Нарисуйте и пометьте луч BD так, чтобы он разрезал угол ABC на два меньших угла, причем угол DBC измеряется в градусах 34 .
В. Какая мера угла ABD ?

Ответы

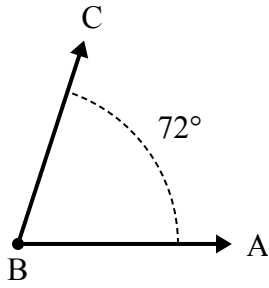
1. 51°
2. 31°
3. 32°
4. 77°
5. 52°
6. 40°



Решите каждую задачу.

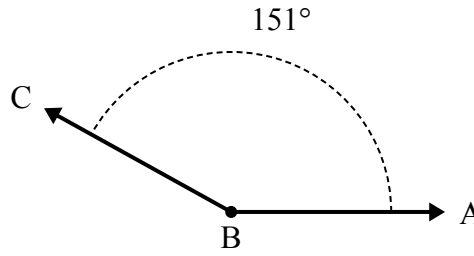
Отвeты

1)



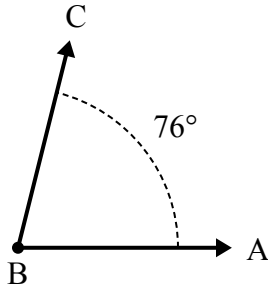
- A. Нарисуйте и пометьте луч BD так, чтобы он разрезал угол ABC на два меньших угла, причем угол ABD измеряется в градусах 32.
 B. Какая мера угла DBC?

2)



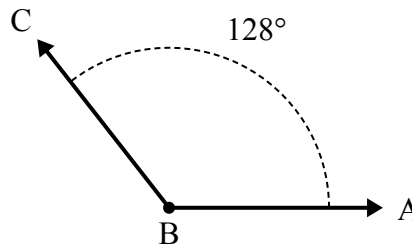
- A. Нарисуйте и пометьте луч BD так, чтобы он разрезал угол ABC на два меньших угла, причем угол DBC измеряется в градусах 44.
 B. Какая мера угла ABD?

3)



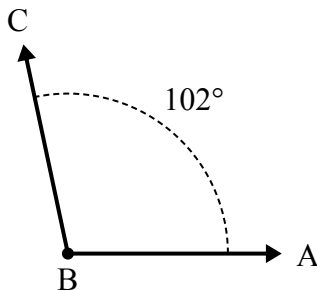
- A. Нарисуйте и пометьте луч BD так, чтобы он разрезал угол ABC на два меньших угла, причем угол DBC измеряется в градусах 34.
 B. Какая мера угла ABD?

4)



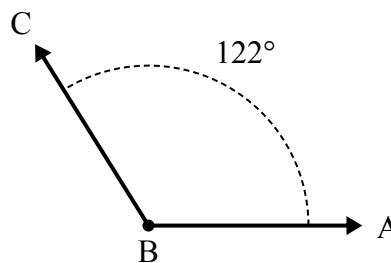
- A. Нарисуйте и пометьте луч BD так, чтобы он разрезал угол ABC на два меньших угла, причем угол ABD измеряется в градусах 71.
 B. Какая мера угла DBC?

5)



- A. Нарисуйте и пометьте луч BD так, чтобы он разрезал угол ABC на два меньших угла, причем угол DBC измеряется в градусах 56.
 B. Какая мера угла ABD?

6)

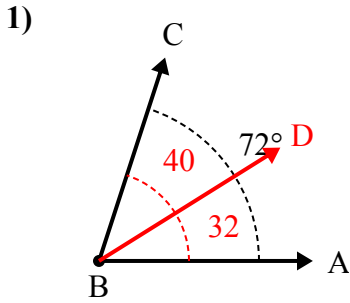


- A. Нарисуйте и пометьте луч BD так, чтобы он разрезал угол ABC на два меньших угла, причем угол DBC измеряется в градусах 88.
 B. Какая мера угла ABD?

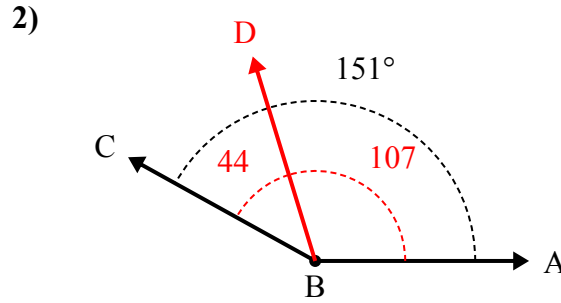
1. _____
2. _____
3. _____
4. _____
5. _____
6. _____



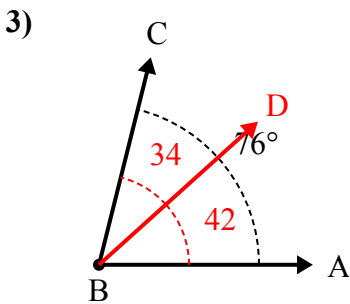
Решите каждую задачу.



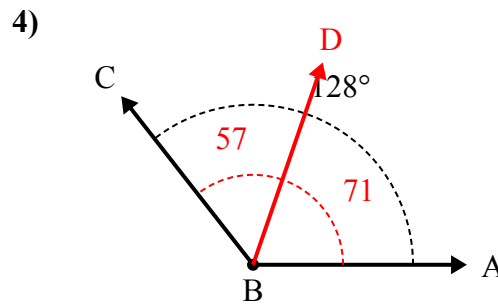
А. Нарисуйте и пометьте луч BD так, чтобы он разрезал угол ABC на два меньших угла, причем угол ABD измеряется в градусах 32.
В. Какая мера угла DBC ?



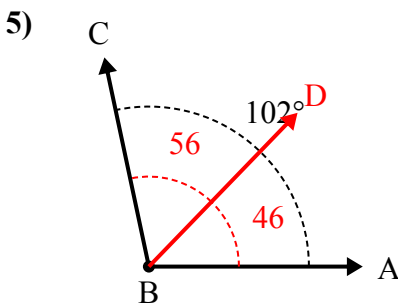
А. Нарисуйте и пометьте луч BD так, чтобы он разрезал угол ABC на два меньших угла, причем угол DBC измеряется в градусах 44.
В. Какая мера угла ABD ?



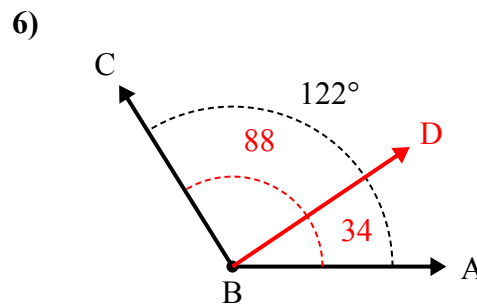
А. Нарисуйте и пометьте луч BD так, чтобы он разрезал угол ABC на два меньших угла, причем угол DBC измеряется в градусах 34.
В. Какая мера угла ABD ?



А. Нарисуйте и пометьте луч BD так, чтобы он разрезал угол ABC на два меньших угла, причем угол ABD измеряется в градусах 71.
В. Какая мера угла DBC ?



А. Нарисуйте и пометьте луч BD так, чтобы он разрезал угол ABC на два меньших угла, причем угол DBC измеряется в градусах 56.
В. Какая мера угла ABD ?



А. Нарисуйте и пометьте луч BD так, чтобы он разрезал угол ABC на два меньших угла, причем угол DBC измеряется в градусах 88.
В. Какая мера угла ABD ?

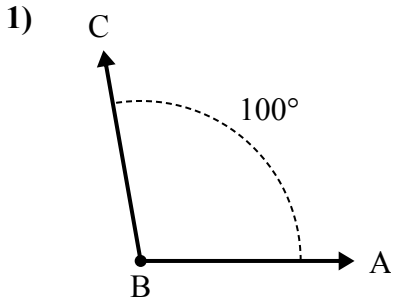
Отвeты

1. 40°
2. 107°
3. 42°
4. 57°
5. 46°
6. 34°

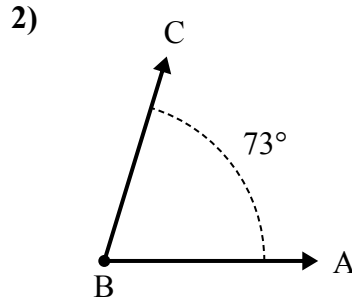


Решите каждую задачу.

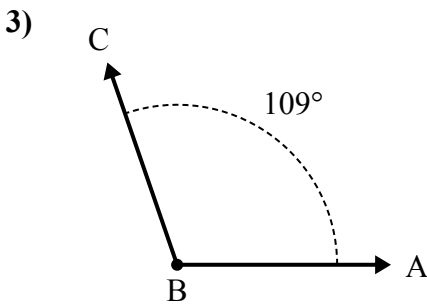
Отвeты



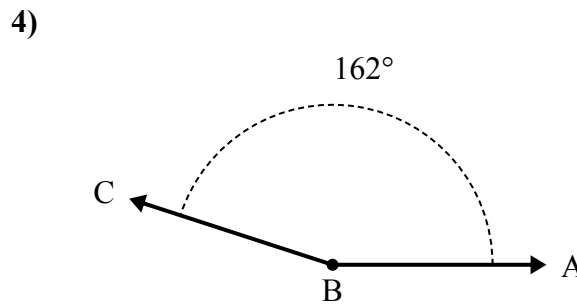
А. Нарисуйте и пометьте луч BD так, чтобы он разрезал угол ABC на два меньших угла, причем угол DBC измеряется в градусах 49 .
В. Какая мера угла ABD ?



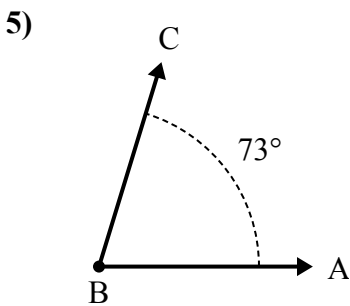
А. Нарисуйте и пометьте луч BD так, чтобы он разрезал угол ABC на два меньших угла, причем угол DBC измеряется в градусах 36 .
В. Какая мера угла ABD ?



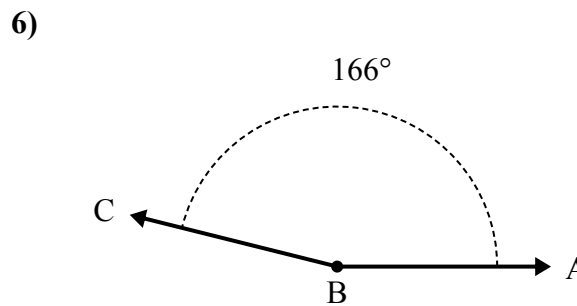
А. Нарисуйте и пометьте луч BD так, чтобы он разрезал угол ABC на два меньших угла, причем угол ABD измеряется в градусах 62 .
В. Какая мера угла DBC ?



А. Нарисуйте и пометьте луч BD так, чтобы он разрезал угол ABC на два меньших угла, причем угол ABD измеряется в градусах 74 .
В. Какая мера угла DBC ?



А. Нарисуйте и пометьте луч BD так, чтобы он разрезал угол ABC на два меньших угла, причем угол DBC измеряется в градусах 39 .
В. Какая мера угла ABD ?

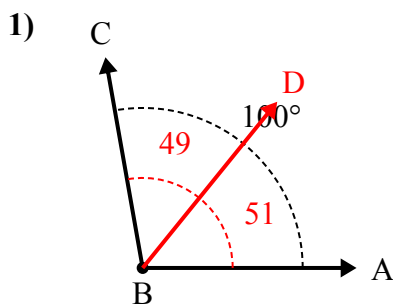


А. Нарисуйте и пометьте луч BD так, чтобы он разрезал угол ABC на два меньших угла, причем угол DBC измеряется в градусах 50 .
В. Какая мера угла ABD ?

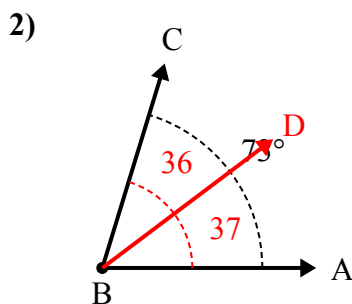
1. _____
2. _____
3. _____
4. _____
5. _____
6. _____



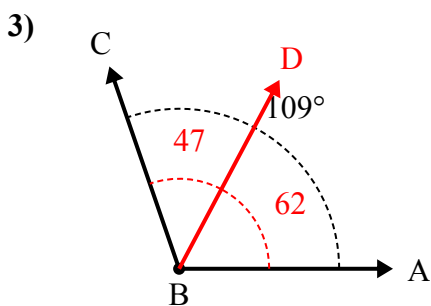
Решите каждую задачу.



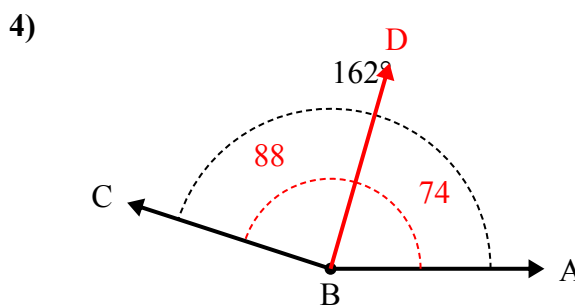
А. Нарисуйте и пометьте луч BD так, чтобы он разрезал угол ABC на два меньших угла, причем угол DBC измеряется в градусах 49.
В. Какая мера угла ABD?



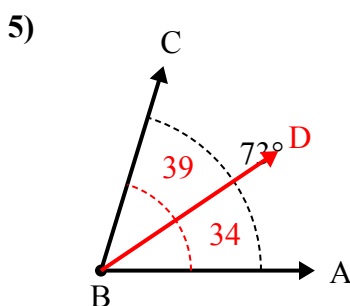
А. Нарисуйте и пометьте луч BD так, чтобы он разрезал угол ABC на два меньших угла, причем угол DBC измеряется в градусах 36.
В. Какая мера угла ABD?



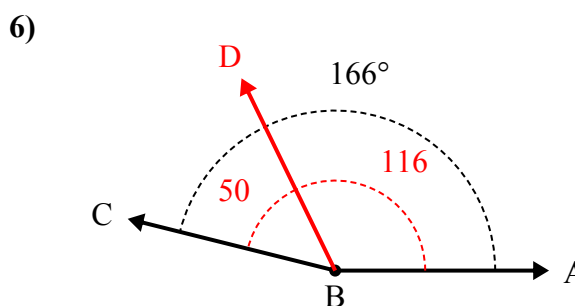
А. Нарисуйте и пометьте луч BD так, чтобы он разрезал угол ABC на два меньших угла, причем угол ABD измеряется в градусах 62.
В. Какая мера угла DBC?



А. Нарисуйте и пометьте луч BD так, чтобы он разрезал угол ABC на два меньших угла, причем угол ABD измеряется в градусах 74.
В. Какая мера угла DBC?



А. Нарисуйте и пометьте луч BD так, чтобы он разрезал угол ABC на два меньших угла, причем угол DBC измеряется в градусах 39.
В. Какая мера угла ABD?



А. Нарисуйте и пометьте луч BD так, чтобы он разрезал угол ABC на два меньших угла, причем угол DBC измеряется в градусах 50.
В. Какая мера угла ABD?

Ответы

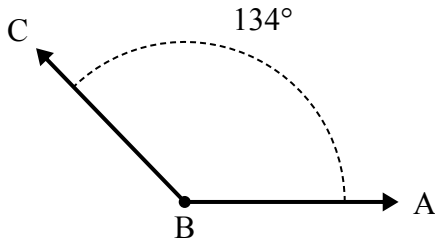
1. 51°
2. 37°
3. 47°
4. 88°
5. 34°
6. 116°



Решите каждую задачу.

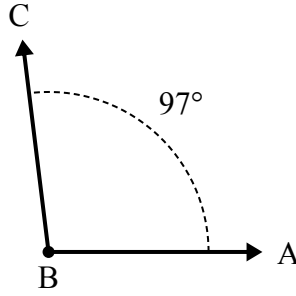
Отвeты

1)



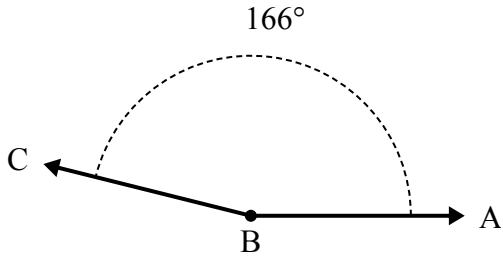
А. Нарисуйте и пометьте луч BD так, чтобы он разрезал угол ABC на два меньших угла, причем угол ABD измеряется в градусах 50.
В. Какая мера угла DBC ?

2)



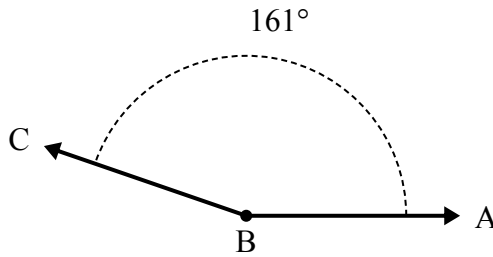
А. Нарисуйте и пометьте луч BD так, чтобы он разрезал угол ABC на два меньших угла, причем угол ABD измеряется в градусах 66.
В. Какая мера угла DBC ?

3)



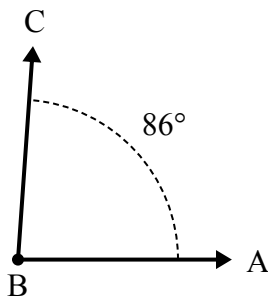
А. Нарисуйте и пометьте луч BD так, чтобы он разрезал угол ABC на два меньших угла, причем угол DBC измеряется в градусах 52.
В. Какая мера угла ABD ?

4)



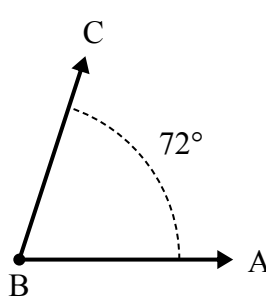
А. Нарисуйте и пометьте луч BD так, чтобы он разрезал угол ABC на два меньших угла, причем угол DBC измеряется в градусах 99.
В. Какая мера угла ABD ?

5)



А. Нарисуйте и пометьте луч BD так, чтобы он разрезал угол ABC на два меньших угла, причем угол DBC измеряется в градусах 33.
В. Какая мера угла ABD ?

6)



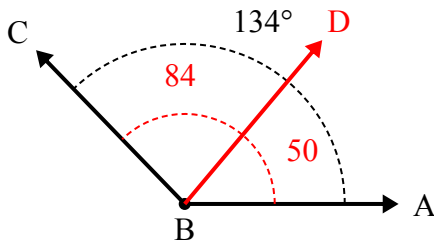
А. Нарисуйте и пометьте луч BD так, чтобы он разрезал угол ABC на два меньших угла, причем угол DBC измеряется в градусах 31.
В. Какая мера угла ABD ?

1. _____
2. _____
3. _____
4. _____
5. _____
6. _____



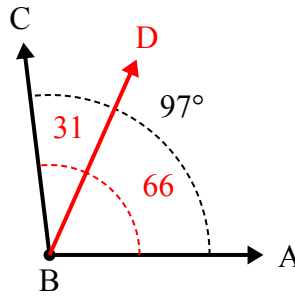
Решите каждую задачу.

1)



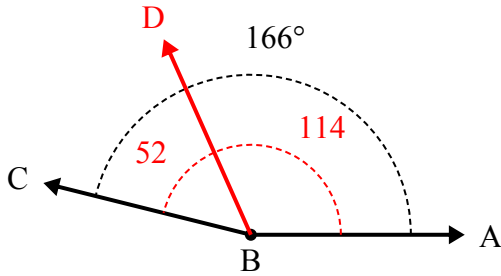
А. Нарисуйте и пометьте луч BD так, чтобы он разрезал угол ABC на два меньших угла, причем угол ABD измеряется в градусах 50.
В. Какая мера угла DBC ?

2)



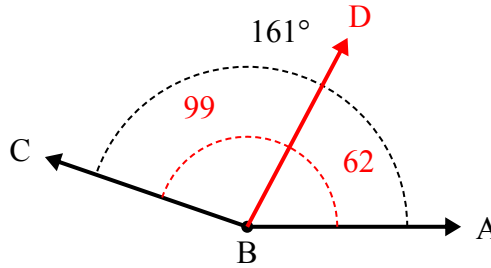
А. Нарисуйте и пометьте луч BD так, чтобы он разрезал угол ABC на два меньших угла, причем угол ABD измеряется в градусах 66.
В. Какая мера угла DBC ?

3)



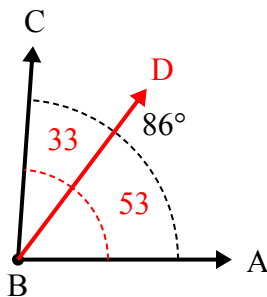
А. Нарисуйте и пометьте луч BD так, чтобы он разрезал угол ABC на два меньших угла, причем угол DBC измеряется в градусах 52.
В. Какая мера угла ABD ?

4)



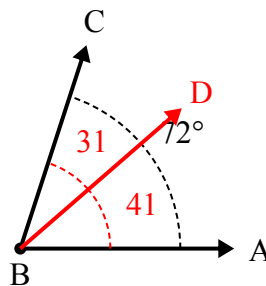
А. Нарисуйте и пометьте луч BD так, чтобы он разрезал угол ABC на два меньших угла, причем угол DBC измеряется в градусах 99.
В. Какая мера угла ABD ?

5)



А. Нарисуйте и пометьте луч BD так, чтобы он разрезал угол ABC на два меньших угла, причем угол DBC измеряется в градусах 33.
В. Какая мера угла ABD ?

6)



А. Нарисуйте и пометьте луч BD так, чтобы он разрезал угол ABC на два меньших угла, причем угол DBC измеряется в градусах 31.
В. Какая мера угла ABD ?

Отвeты

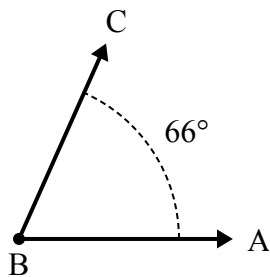
1. 84°
2. 31°
3. 114°
4. 62°
5. 53°
6. 41°



Решите каждую задачу.

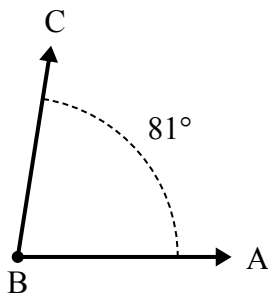
Ответы

1)



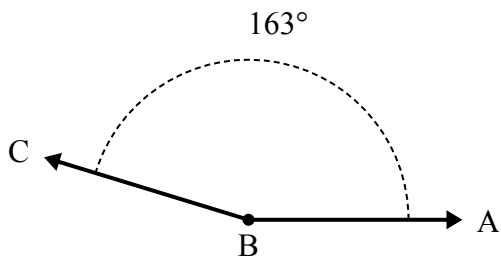
А. Нарисуйте и пометьте луч BD так, чтобы он разрезал угол ABC на два меньших угла, причем угол DBC измеряется в градусах 31 .
 В. Какая мера угла ABD ?

2)



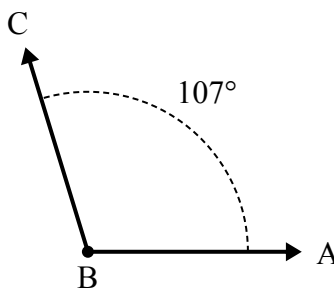
А. Нарисуйте и пометьте луч BD так, чтобы он разрезал угол ABC на два меньших угла, причем угол ABD измеряется в градусах 31 .
 В. Какая мера угла DBC ?

3)



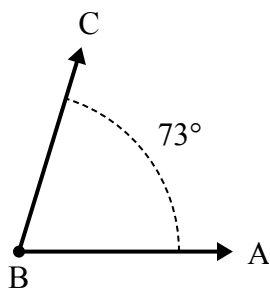
А. Нарисуйте и пометьте луч BD так, чтобы он разрезал угол ABC на два меньших угла, причем угол ABD измеряется в градусах 73 .
 В. Какая мера угла DBC ?

4)



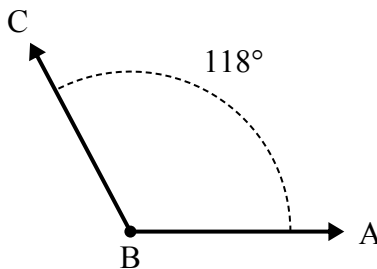
А. Нарисуйте и пометьте луч BD так, чтобы он разрезал угол ABC на два меньших угла, причем угол DBC измеряется в градусах 58 .
 В. Какая мера угла ABD ?

5)



А. Нарисуйте и пометьте луч BD так, чтобы он разрезал угол ABC на два меньших угла, причем угол DBC измеряется в градусах 33 .
 В. Какая мера угла ABD ?

6)



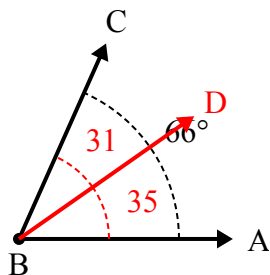
А. Нарисуйте и пометьте луч BD так, чтобы он разрезал угол ABC на два меньших угла, причем угол DBC измеряется в градусах 31 .
 В. Какая мера угла ABD ?

1. _____
2. _____
3. _____
4. _____
5. _____
6. _____



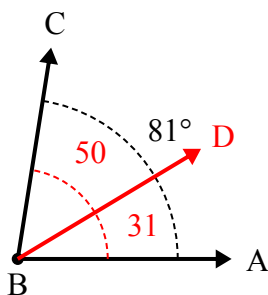
Решите каждую задачу.

1)



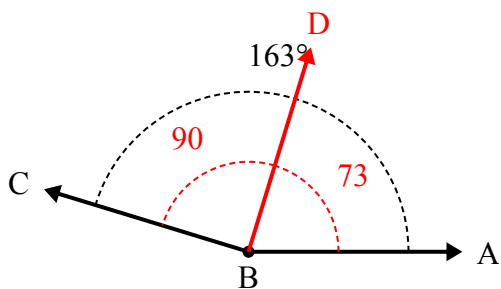
A. Нарисуйте и пометьте луч BD так, чтобы он разрезал угол ABC на два меньших угла, причем угол DBC измеряется в градусах 31.
B. Какая мера угла ABD?

2)



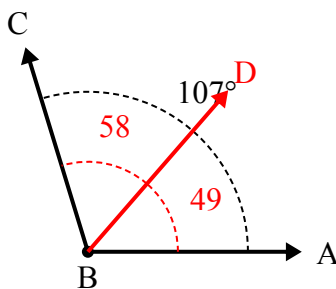
A. Нарисуйте и пометьте луч BD так, чтобы он разрезал угол ABC на два меньших угла, причем угол ABD измеряется в градусах 31.
B. Какая мера угла DBC?

3)



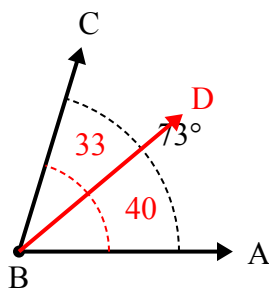
A. Нарисуйте и пометьте луч BD так, чтобы он разрезал угол ABC на два меньших угла, причем угол ABD измеряется в градусах 73.
B. Какая мера угла DBC?

4)



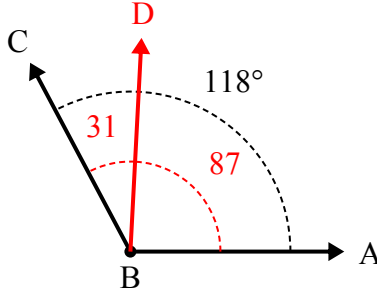
A. Нарисуйте и пометьте луч BD так, чтобы он разрезал угол ABC на два меньших угла, причем угол DBC измеряется в градусах 58.
B. Какая мера угла ABD?

5)



A. Нарисуйте и пометьте луч BD так, чтобы он разрезал угол ABC на два меньших угла, причем угол DBC измеряется в градусах 33.
B. Какая мера угла ABD?

6)



A. Нарисуйте и пометьте луч BD так, чтобы он разрезал угол ABC на два меньших угла, причем угол DBC измеряется в градусах 31.
B. Какая мера угла ABD?

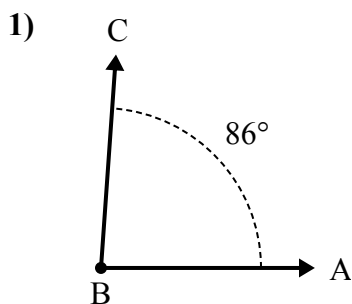
Отвeты

1. 35°
2. 50°
3. 90°
4. 49°
5. 40°
6. 87°

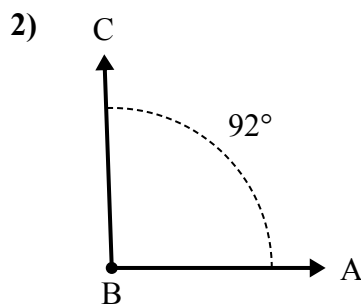


Решите каждую задачу.

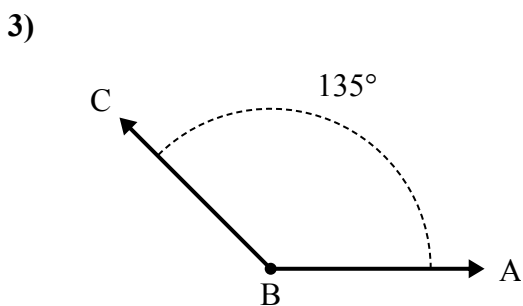
Ответы



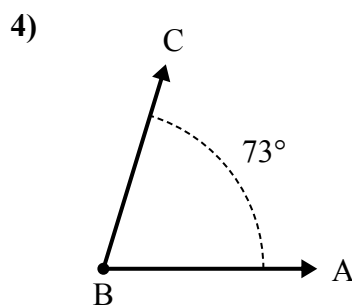
A. Нарисуйте и пометьте луч BD так, чтобы он разрезал угол ABC на два меньших угла, причем угол DBC измеряется в градусах 35.
 B. Какая мера угла ABD?



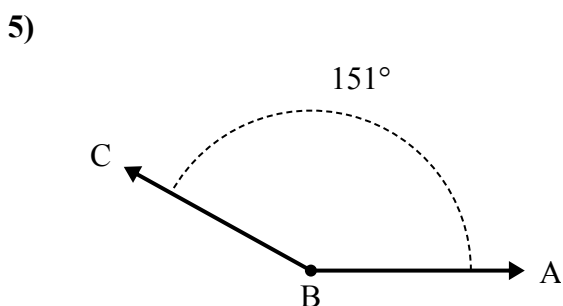
A. Нарисуйте и пометьте луч BD так, чтобы он разрезал угол ABC на два меньших угла, причем угол DBC измеряется в градусах 34.
 B. Какая мера угла ABD?



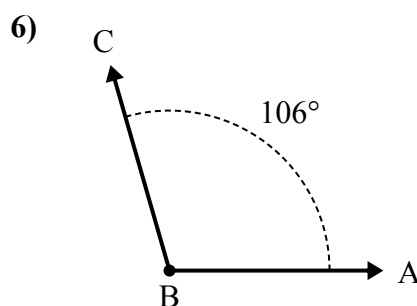
A. Нарисуйте и пометьте луч BD так, чтобы он разрезал угол ABC на два меньших угла, причем угол DBC измеряется в градусах 47.
 B. Какая мера угла ABD?



A. Нарисуйте и пометьте луч BD так, чтобы он разрезал угол ABC на два меньших угла, причем угол ABD измеряется в градусах 42.
 B. Какая мера угла DBC?



A. Нарисуйте и пометьте луч BD так, чтобы он разрезал угол ABC на два меньших угла, причем угол ABD измеряется в градусах 52.
 B. Какая мера угла DBC?

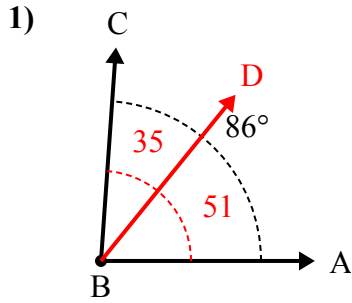


A. Нарисуйте и пометьте луч BD так, чтобы он разрезал угол ABC на два меньших угла, причем угол ABD измеряется в градусах 76.
 B. Какая мера угла DBC?

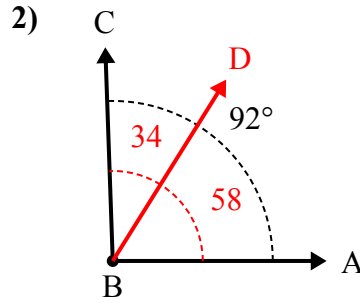
1. _____
2. _____
3. _____
4. _____
5. _____
6. _____



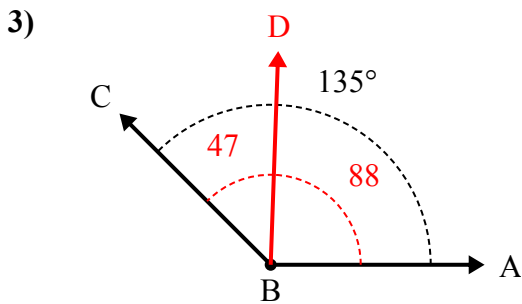
Решите каждую задачу.



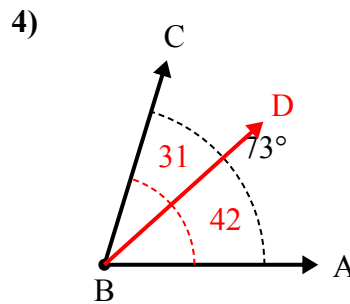
A. Нарисуйте и пометьте луч BD так, чтобы он разрезал угол ABC на два меньших угла, причем угол DBC измеряется в градусах 35.
B. Какая мера угла ABD?



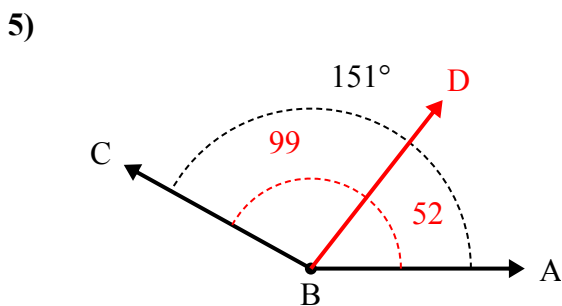
A. Нарисуйте и пометьте луч BD так, чтобы он разрезал угол ABC на два меньших угла, причем угол DBC измеряется в градусах 34.
B. Какая мера угла ABD?



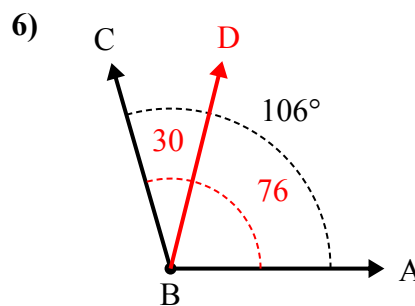
A. Нарисуйте и пометьте луч BD так, чтобы он разрезал угол ABC на два меньших угла, причем угол DBC измеряется в градусах 47.
B. Какая мера угла ABD?



A. Нарисуйте и пометьте луч BD так, чтобы он разрезал угол ABC на два меньших угла, причем угол ABD измеряется в градусах 42.
B. Какая мера угла DBC?



A. Нарисуйте и пометьте луч BD так, чтобы он разрезал угол ABC на два меньших угла, причем угол ABD измеряется в градусах 52.
B. Какая мера угла DBC?



A. Нарисуйте и пометьте луч BD так, чтобы он разрезал угол ABC на два меньших угла, причем угол ABD измеряется в градусах 76.
B. Какая мера угла DBC?

Ответы

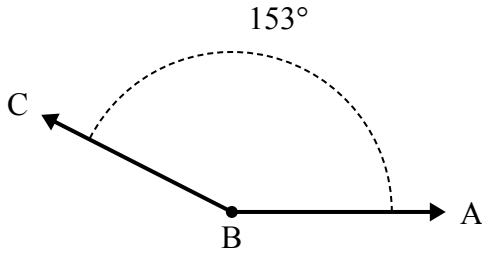
1. 51°
2. 58°
3. 88°
4. 31°
5. 99°
6. 30°



Решите каждую задачу.

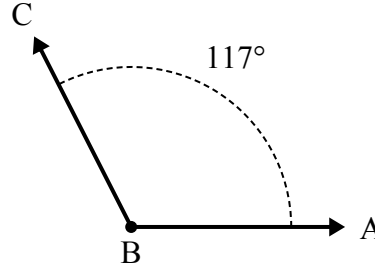
Отвeты

1)



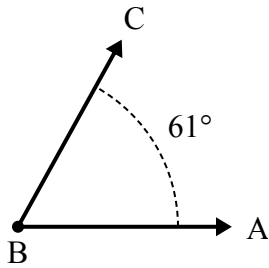
A. Нарисуйте и пометьте луч BD так, чтобы он разрезал угол ABC на два меньших угла, причем угол DBC измеряется в градусах 90.
B. Какая мера угла ABD?

2)



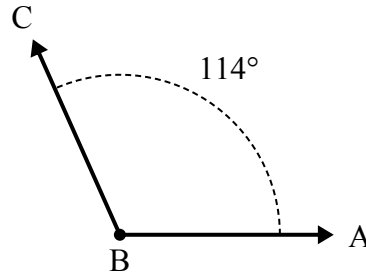
A. Нарисуйте и пометьте луч BD так, чтобы он разрезал угол ABC на два меньших угла, причем угол DBC измеряется в градусах 78.
B. Какая мера угла ABD?

3)



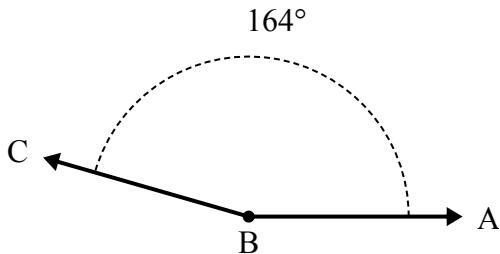
A. Нарисуйте и пометьте луч BD так, чтобы он разрезал угол ABC на два меньших угла, причем угол ABD измеряется в градусах 30.
B. Какая мера угла DBC?

4)



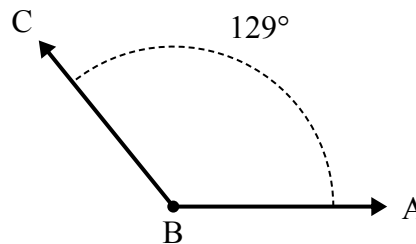
A. Нарисуйте и пометьте луч BD так, чтобы он разрезал угол ABC на два меньших угла, причем угол DBC измеряется в градусах 49.
B. Какая мера угла ABD?

5)



A. Нарисуйте и пометьте луч BD так, чтобы он разрезал угол ABC на два меньших угла, причем угол DBC измеряется в градусах 70.
B. Какая мера угла ABD?

6)



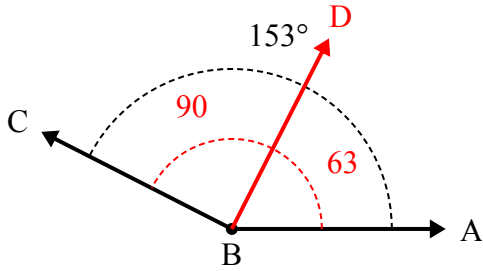
A. Нарисуйте и пометьте луч BD так, чтобы он разрезал угол ABC на два меньших угла, причем угол ABD измеряется в градусах 43.
B. Какая мера угла DBC?

1. _____
2. _____
3. _____
4. _____
5. _____
6. _____



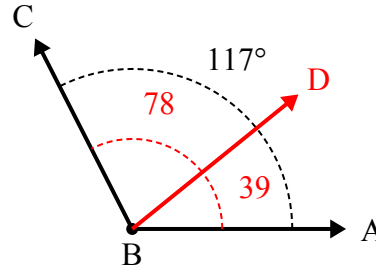
Решите каждую задачу.

1)



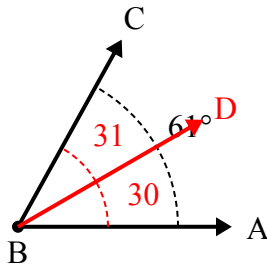
А. Нарисуйте и пометьте луч BD так, чтобы он разрезал угол ABC на два меньших угла, причем угол DBC измеряется в градусах 90 .
В. Какая мера угла ABD ?

2)



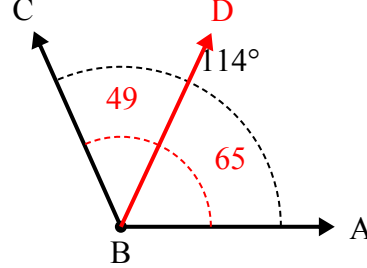
А. Нарисуйте и пометьте луч BD так, чтобы он разрезал угол ABC на два меньших угла, причем угол DBC измеряется в градусах 78 .
В. Какая мера угла ABD ?

3)



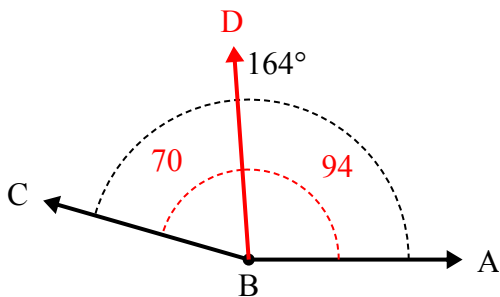
А. Нарисуйте и пометьте луч BD так, чтобы он разрезал угол ABC на два меньших угла, причем угол ABD измеряется в градусах 30 .
В. Какая мера угла DBC ?

4)



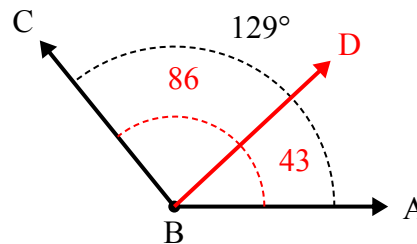
А. Нарисуйте и пометьте луч BD так, чтобы он разрезал угол ABC на два меньших угла, причем угол DBC измеряется в градусах 49 .
В. Какая мера угла ABD ?

5)



А. Нарисуйте и пометьте луч BD так, чтобы он разрезал угол ABC на два меньших угла, причем угол DBC измеряется в градусах 70 .
В. Какая мера угла ABD ?

6)



А. Нарисуйте и пометьте луч BD так, чтобы он разрезал угол ABC на два меньших угла, причем угол ABD измеряется в градусах 43 .
В. Какая мера угла DBC ?

Ответы

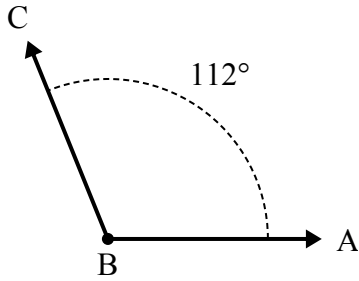
1. 63°
2. 39°
3. 31°
4. 65°
5. 94°
6. 86°



Решите каждую задачу.

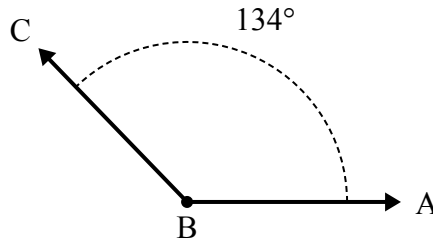
Ответы

1)



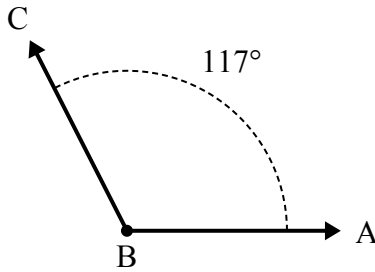
А. Нарисуйте и пометьте луч BD так, чтобы он разрезал угол ABC на два меньших угла, причем угол DBC измеряется в градусах 34.
В. Какая мера угла ABD?

2)



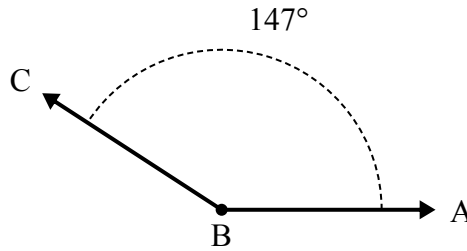
А. Нарисуйте и пометьте луч BD так, чтобы он разрезал угол ABC на два меньших угла, причем угол ABD измеряется в градусах 91.
В. Какая мера угла DBC?

3)



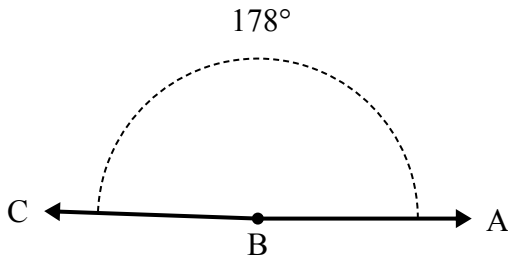
А. Нарисуйте и пометьте луч BD так, чтобы он разрезал угол ABC на два меньших угла, причем угол ABD измеряется в градусах 66.
В. Какая мера угла DBC?

4)



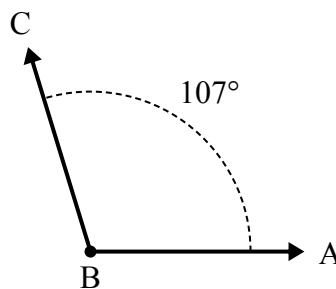
А. Нарисуйте и пометьте луч BD так, чтобы он разрезал угол ABC на два меньших угла, причем угол ABD измеряется в градусах 48.
В. Какая мера угла DBC?

5)



А. Нарисуйте и пометьте луч BD так, чтобы он разрезал угол ABC на два меньших угла, причем угол ABD измеряется в градусах 112.
В. Какая мера угла DBC?

6)

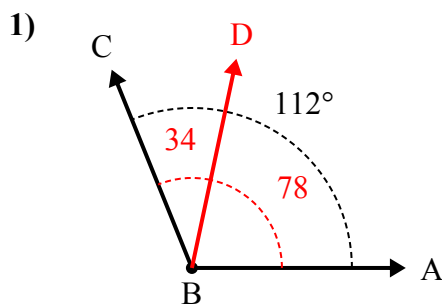


А. Нарисуйте и пометьте луч BD так, чтобы он разрезал угол ABC на два меньших угла, причем угол ABD измеряется в градусах 58.
В. Какая мера угла DBC?

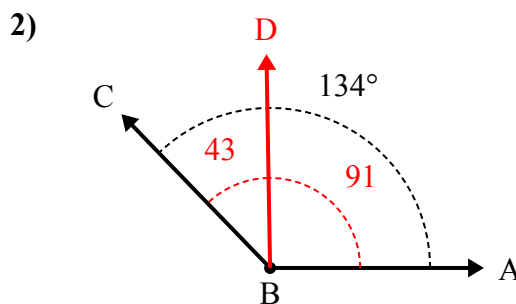
1. _____
2. _____
3. _____
4. _____
5. _____
6. _____



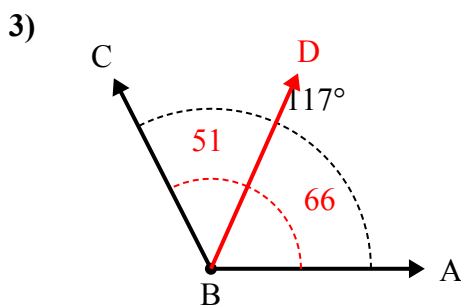
Решите каждую задачу.



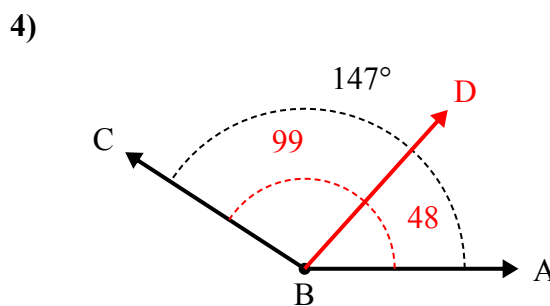
А. Нарисуйте и пометьте луч BD так, чтобы он разрезал угол ABC на два меньших угла, причем угол DBC измеряется в градусах 34.
В. Какая мера угла ABD?



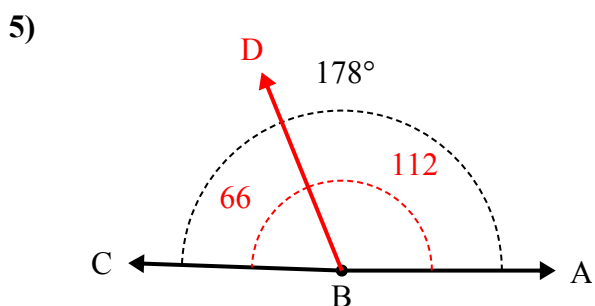
А. Нарисуйте и пометьте луч BD так, чтобы он разрезал угол ABC на два меньших угла, причем угол ABD измеряется в градусах 91.
В. Какая мера угла DBC?



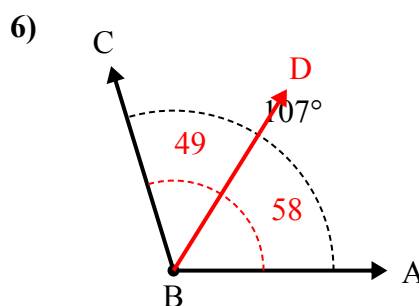
А. Нарисуйте и пометьте луч BD так, чтобы он разрезал угол ABC на два меньших угла, причем угол ABD измеряется в градусах 66.
В. Какая мера угла DBC?



А. Нарисуйте и пометьте луч BD так, чтобы он разрезал угол ABC на два меньших угла, причем угол ABD измеряется в градусах 48.
В. Какая мера угла DBC?



А. Нарисуйте и пометьте луч BD так, чтобы он разрезал угол ABC на два меньших угла, причем угол ABD измеряется в градусах 112.
В. Какая мера угла DBC?



А. Нарисуйте и пометьте луч BD так, чтобы он разрезал угол ABC на два меньших угла, причем угол ABD измеряется в градусах 58.
В. Какая мера угла DBC?

Отвeты

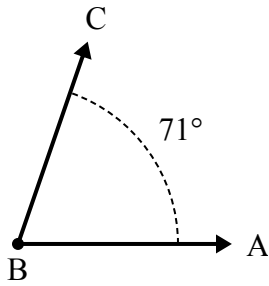
1. 78°
2. 43°
3. 51°
4. 99°
5. 66°
6. 49°



Решите каждую задачу.

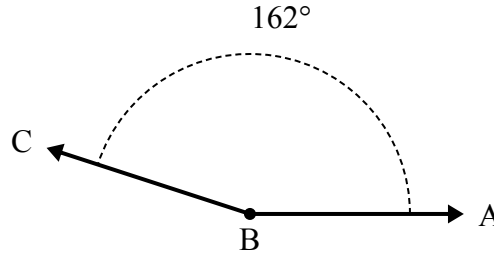
Ответы

1)



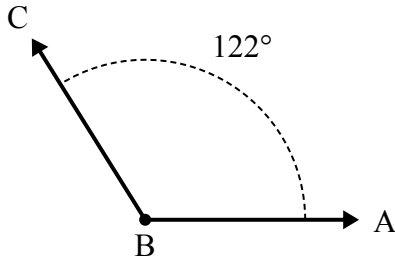
- A. Нарисуйте и пометьте луч BD так, чтобы он разрезал угол ABC на два меньших угла, причем угол ABD измеряется в градусах 41.
 B. Какая мера угла DBC?

2)



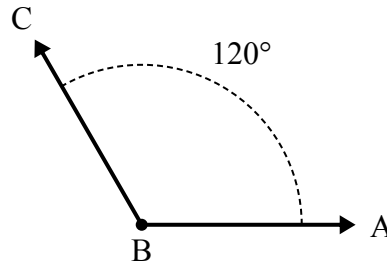
- A. Нарисуйте и пометьте луч BD так, чтобы он разрезал угол ABC на два меньших угла, причем угол ABD измеряется в градусах 68.
 B. Какая мера угла DBC?

3)



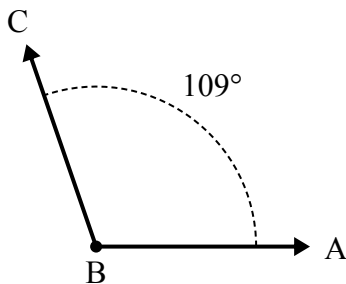
- A. Нарисуйте и пометьте луч BD так, чтобы он разрезал угол ABC на два меньших угла, причем угол ABD измеряется в градусах 75.
 B. Какая мера угла DBC?

4)



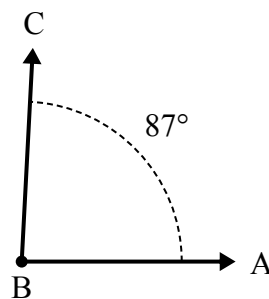
- A. Нарисуйте и пометьте луч BD так, чтобы он разрезал угол ABC на два меньших угла, причем угол DBC измеряется в градусах 53.
 B. Какая мера угла ABD?

5)



- A. Нарисуйте и пометьте луч BD так, чтобы он разрезал угол ABC на два меньших угла, причем угол ABD измеряется в градусах 55.
 B. Какая мера угла DBC?

6)



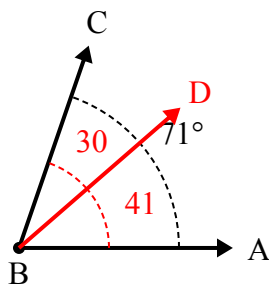
- A. Нарисуйте и пометьте луч BD так, чтобы он разрезал угол ABC на два меньших угла, причем угол DBC измеряется в градусах 56.
 B. Какая мера угла ABD?

1. _____
2. _____
3. _____
4. _____
5. _____
6. _____



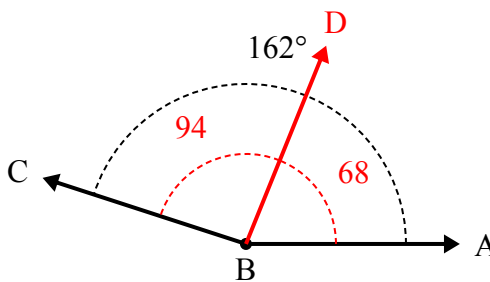
Решите каждую задачу.

1)



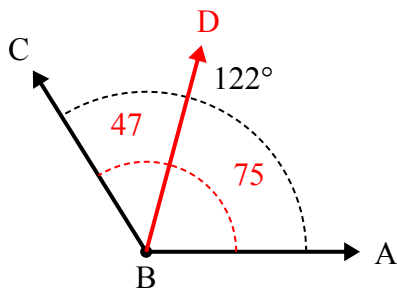
А. Нарисуйте и пометьте луч BD так, чтобы он разрезал угол ABC на два меньших угла, причем угол ABD измеряется в градусах 41.
В. Какая мера угла DBC?

2)



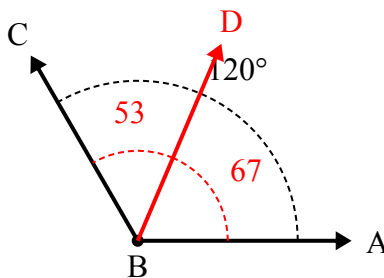
А. Нарисуйте и пометьте луч BD так, чтобы он разрезал угол ABC на два меньших угла, причем угол ABD измеряется в градусах 68.
В. Какая мера угла DBC?

3)



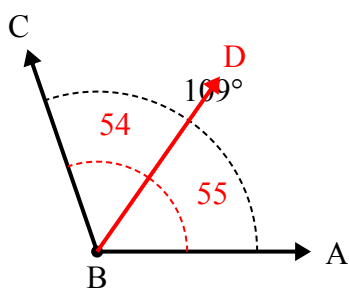
А. Нарисуйте и пометьте луч BD так, чтобы он разрезал угол ABC на два меньших угла, причем угол ABD измеряется в градусах 75.
В. Какая мера угла DBC?

4)



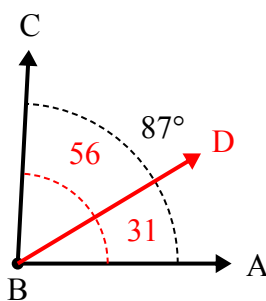
А. Нарисуйте и пометьте луч BD так, чтобы он разрезал угол ABC на два меньших угла, причем угол DBC измеряется в градусах 53.
В. Какая мера угла ABD?

5)



А. Нарисуйте и пометьте луч BD так, чтобы он разрезал угол ABC на два меньших угла, причем угол ABD измеряется в градусах 55.
В. Какая мера угла DBC?

6)



А. Нарисуйте и пометьте луч BD так, чтобы он разрезал угол ABC на два меньших угла, причем угол DBC измеряется в градусах 56.
В. Какая мера угла ABD?

Отвeты

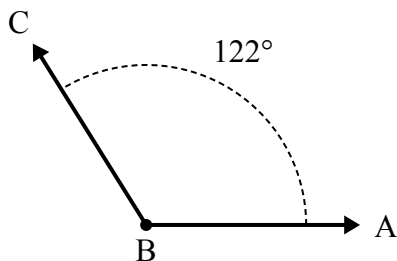
1. 30°
2. 94°
3. 47°
4. 67°
5. 54°
6. 31°



Решите каждую задачу.

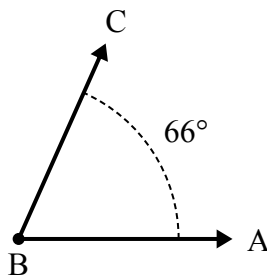
Ответы

1)



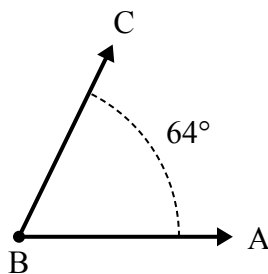
А. Нарисуйте и пометьте луч BD так, чтобы он разрезал угол ABC на два меньших угла, причем угол ABD измеряется в градусах 77 .
В. Какая мера угла DBC ?

2)



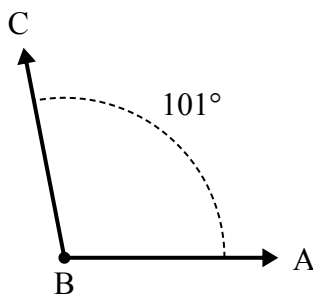
А. Нарисуйте и пометьте луч BD так, чтобы он разрезал угол ABC на два меньших угла, причем угол ABD измеряется в градусах 34 .
В. Какая мера угла DBC ?

3)



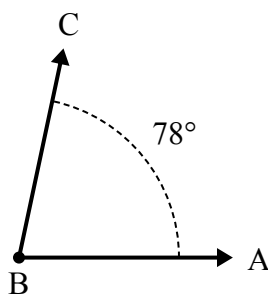
А. Нарисуйте и пометьте луч BD так, чтобы он разрезал угол ABC на два меньших угла, причем угол ABD измеряется в градусах 33 .
В. Какая мера угла DBC ?

4)



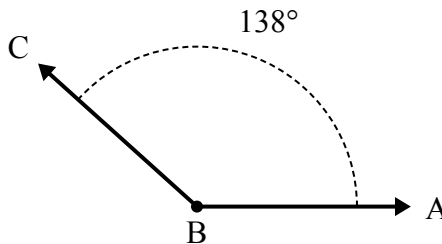
А. Нарисуйте и пометьте луч BD так, чтобы он разрезал угол ABC на два меньших угла, причем угол ABD измеряется в градусах 46 .
В. Какая мера угла DBC ?

5)



А. Нарисуйте и пометьте луч BD так, чтобы он разрезал угол ABC на два меньших угла, причем угол ABD измеряется в градусах 31 .
В. Какая мера угла DBC ?

6)

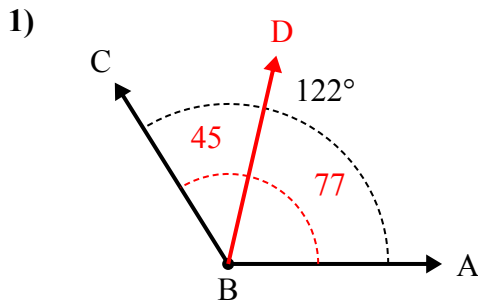


А. Нарисуйте и пометьте луч BD так, чтобы он разрезал угол ABC на два меньших угла, причем угол ABD измеряется в градусах 106 .
В. Какая мера угла DBC ?

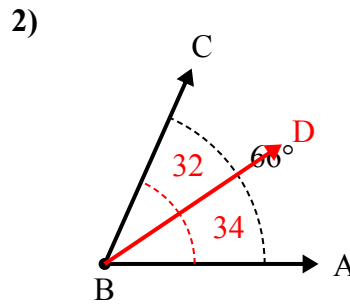
1. _____
2. _____
3. _____
4. _____
5. _____
6. _____



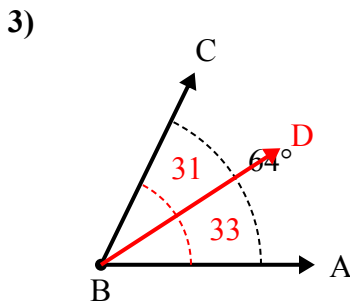
Решите каждую задачу.



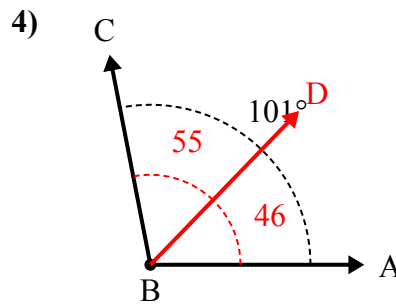
A. Нарисуйте и пометьте луч BD так, чтобы он разрезал угол ABC на два меньших угла, причем угол ABD измеряется в градусах 77.
B. Какая мера угла DBC?



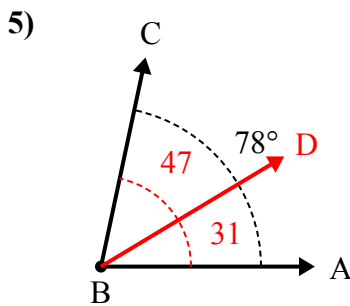
A. Нарисуйте и пометьте луч BD так, чтобы он разрезал угол ABC на два меньших угла, причем угол ABD измеряется в градусах 34.
B. Какая мера угла DBC?



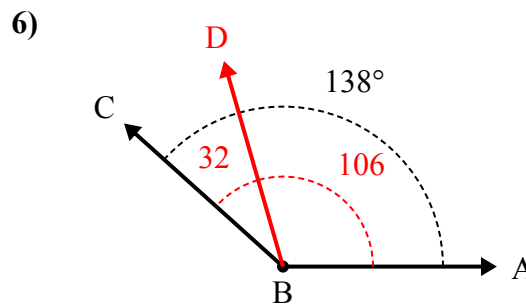
A. Нарисуйте и пометьте луч BD так, чтобы он разрезал угол ABC на два меньших угла, причем угол ABD измеряется в градусах 33.
B. Какая мера угла DBC?



A. Нарисуйте и пометьте луч BD так, чтобы он разрезал угол ABC на два меньших угла, причем угол ABD измеряется в градусах 46.
B. Какая мера угла DBC?



A. Нарисуйте и пометьте луч BD так, чтобы он разрезал угол ABC на два меньших угла, причем угол ABD измеряется в градусах 31.
B. Какая мера угла DBC?



A. Нарисуйте и пометьте луч BD так, чтобы он разрезал угол ABC на два меньших угла, причем угол ABD измеряется в градусах 106.
B. Какая мера угла DBC?

Ответы

1. 45°
2. 32°
3. 31°
4. 55°
5. 47°
6. 32°