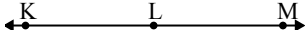




Решите каждую задачу.

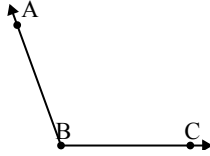
1)



Под каким вариантом правильно определен $\angle KLM$?

- A. 180°
- B. 115°
- C. 1°
- D. 24°

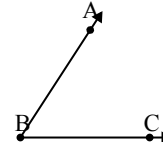
2)



Под каким вариантом правильно определен $\angle ABC$?

- A. 7°
- B. 164°
- C. 110°
- D. 60°

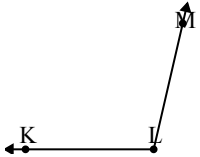
3)



Под каким вариантом правильно определен $\angle ABC$?

- A. 162°
- B. 99°
- C. 57°
- D. 3°

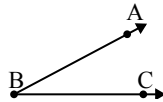
4)



Под каким вариантом правильно определен $\angle KLM$?

- A. 103°
- B. 42°
- C. 82°
- D. 13°

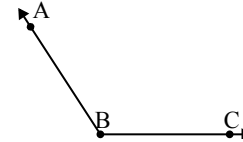
5)



Под каким вариантом правильно определен $\angle ABC$?

- A. 102°
- B. 147°
- C. 28°
- D. 80°

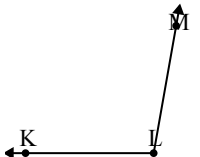
6)



Под каким вариантом правильно определен $\angle ABC$?

- A. 123°
- B. 91°
- C. 151°
- D. 19°

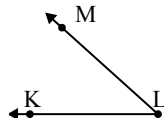
7)



Под каким вариантом правильно определен $\angle KLM$?

- A. 75°
- B. 134°
- C. 100°
- D. 15°

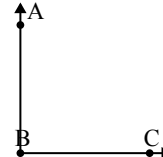
8)



Под каким вариантом правильно определен $\angle KLM$?

- A. 21°
- B. 42°
- C. 149°
- D. 68°

9)



Под каким вариантом правильно определен $\angle ABC$?

- A. 29°
- B. 90°
- C. 163°
- D. 133°

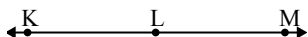
Отвeты

- 1. _____
- 2. _____
- 3. _____
- 4. _____
- 5. _____
- 6. _____
- 7. _____
- 8. _____
- 9. _____



Решите каждую задачу.

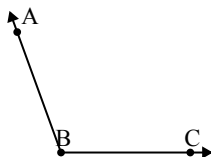
1)



Под каким вариантом правильно определен $\angle KLM$?

- A. 180°
- B. 115°
- C. 1°
- D. 24°

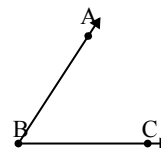
2)



Под каким вариантом правильно определен $\angle ABC$?

- A. 7°
- B. 164°
- C. 110°
- D. 60°

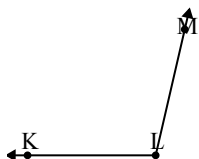
3)



Под каким вариантом правильно определен $\angle ABC$?

- A. 162°
- B. 99°
- C. 57°
- D. 3°

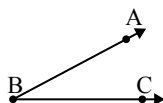
4)



Под каким вариантом правильно определен $\angle KLM$?

- A. 103°
- B. 42°
- C. 82°
- D. 13°

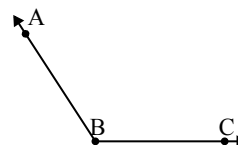
5)



Под каким вариантом правильно определен $\angle ABC$?

- A. 102°
- B. 147°
- C. 28°
- D. 80°

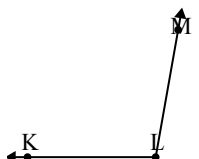
6)



Под каким вариантом правильно определен $\angle ABC$?

- A. 123°
- B. 91°
- C. 151°
- D. 19°

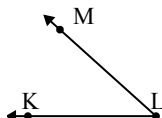
7)



Под каким вариантом правильно определен $\angle KLM$?

- A. 75°
- B. 134°
- C. 100°
- D. 15°

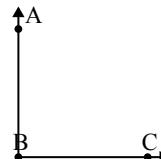
8)



Под каким вариантом правильно определен $\angle KLM$?

- A. 21°
- B. 42°
- C. 149°
- D. 68°

9)



Под каким вариантом правильно определен $\angle ABC$?

- A. 29°
- B. 90°
- C. 163°
- D. 133°

Ответы

- 1. **A**
- 2. **C**
- 3. **C**
- 4. **A**
- 5. **C**
- 6. **A**
- 7. **C**
- 8. **B**
- 9. **B**